

2019 年度

上 宮 高 等 学 校

入 学 考 査 問 題

社 会

(注意) 解 答 は す べ て 解 答 用 紙 に 記 入 し な さ い。

受 験 番 号				名 前	

I 次の文章は、「小笠原返還 50 年 重み増す太平洋の要衝」と題された新聞記事からの引用です。この文章を読んで、後の問いに答えなさい。

①米国から返還されて 50 年の節目を迎えた小笠原諸島は、②世界自然遺産に登録された自然環境の価値はむろん、太平洋の海洋権益保持と安全保障の「要衝」として重みが増している。これまで、小笠原諸島振興開発特別措置法という法律の下で施設整備や生活改善の施策が講じられてきたが、住民の暮らしが永続するよう離島の保全、振興に一段と力を入れる必要がある。

行政区域では③東京都小笠原村になる小笠原諸島は、父島、母島や太平洋戦争の激戦地となった硫黄島など大小 30 余りの島々で構成される。中心の父島は東京から約 1 千キロ南に位置する外海離島で、さらに南方の④沖ノ島島などを含めた小笠原諸島が擁する⑤排他的経済水域（E E Z）は、日本の E E Z 全体の 3 割をも占めている。

広大な小笠原諸島海域の⑥水産資源と将来開発の可能性を秘めた海底資源は日本の財産と言え、有人国境離島の同諸島の保全は、政府の重要な務めである。

父島、母島に住む約 2500 人の島民にとって、当面の最大の課題は本土と父島を結ぶ航空路の開設である。現在の交通手段は約 1 週間に 1 便運航される定期船だけであり、時間も片道で約 24 時間もかかる。まさに隔絶された離島住民にとって、航空路の開設は長年の懸案である。

東京都と小笠原村の間では、世界自然遺産の区域外である父島^{すさき}洲崎地区に飛行場を建設する案が検討されている。滑走路建設が自然に与える影響や費用対効果、採算性など検討課題は多いが、何より重要なことは、島民の生業を盛んにし、住み続ける意欲を持てるようにすることであろう。

⑦中国の海洋活動拡大で、小笠原諸島と周辺海域の⑧保安・防衛体制の強化も重要になっている。海上保安庁と⑨自衛隊による離島周辺警備は、沖縄県・尖閣諸島を含む南西諸島に力点が置かれているが、中国海軍は最近、空母による西太平洋進出の動きを強めている。小笠原諸島周辺では中国漁船のサンゴ密漁が相次いだ経緯もあり、レーダーや巡視船による監視体制の拡充が求められている。

問 1 下線部①について、次の（１）・（２）の各問いに答えなさい。

（１） 近年、米国（アメリカ合衆国）の先端技術産業は、ほぼ北緯 37 度より南の地域へ著しく進出しています。この地域を何といいますか。カタカナで答えなさい。

（２） 次の表は、米国（アメリカ合衆国）の民族構成を多い順にまとめたものです。表中の X は、スペイン語を話す移民とその子孫を示しています。この人たちを何といいますか。

1	白人	72.6	%
2	X	16.3	%
3	アフリカ系	12.6	%
4	アジア系	4.8	%
5	混血	2.9	%
6	先住民	0.9	%

（「2018 データブック オブ・ザ・ワールド」より）

問2 下線部②について、現在日本には世界自然遺産として4か所が登録されています。小笠原諸島の他には、「知床」「白神山地」「屋久島」です。それらについて、次の(1)～(3)の各問いに答えなさい。

(1) 「知床」は、北海道北東部の海に突き出た知床半島と、その沿岸海域を指します。知床半島が突き出ている海を何といいますか。次のア～エの中から1つ選んで、記号で答えなさい。

ア オホーツク海 イ 東シナ海 ウ 日本海 エ 太平洋

(2) 「白神山地」は本州北部の2つの県にまたがって位置し、貴重なブナの原生林があることで知られています。この2つの県の組合せとして正しいものを、次のア～エの中から1つ選んで、記号で答えなさい。

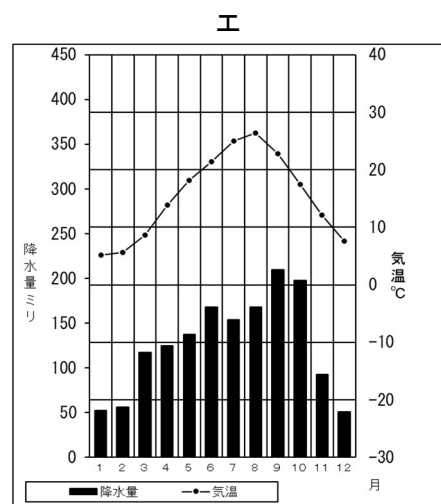
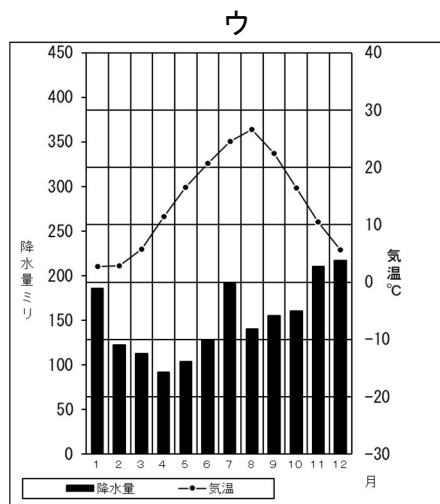
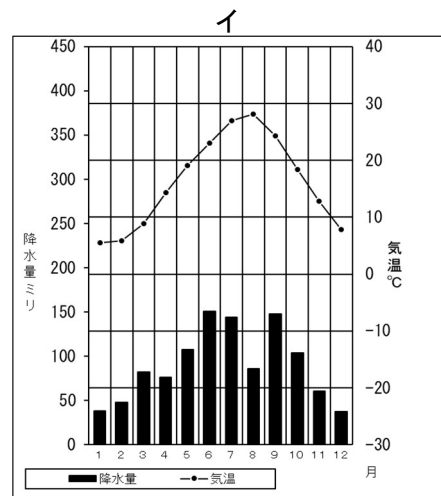
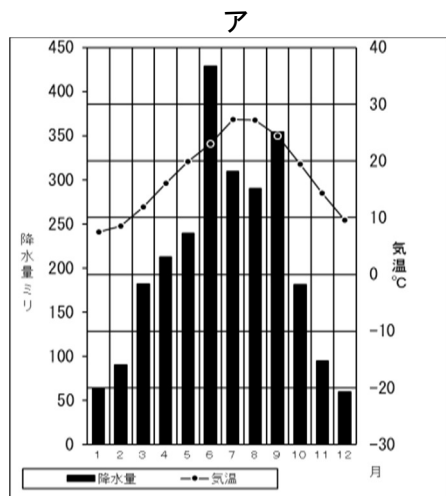
ア 青森県と秋田県 イ 山形県と秋田県 ウ 青森県と岩手県 エ 山形県と岩手県

(3) 「屋久島」は屋久杉やウミガメの産卵地などで知られています。このウミガメの産卵地は、釧路湿原や琵琶湖などと同じく、特に水鳥の生息地として国際的に重要な湿地に関する条約に登録されています。この条約を何といいますか。**カタカナ**で答えなさい。

問3 下線部③について、いよいよ東京では2020年にオリンピック・パラリンピックが開催されます。前回はブラジルのリオデジャネイロで開催され、東京の次はフランスのパリで開催されることが決定しています。これらの都市や国について、次の(1)～(3)の各問いに答えなさい。

(1) 次のグラフは、日本の4都市(新潟・東京・高松・宮崎)の雨温図です。東京の雨温図として正しいものを、次のア～エの中から1つ選んで、記号で答えなさい。

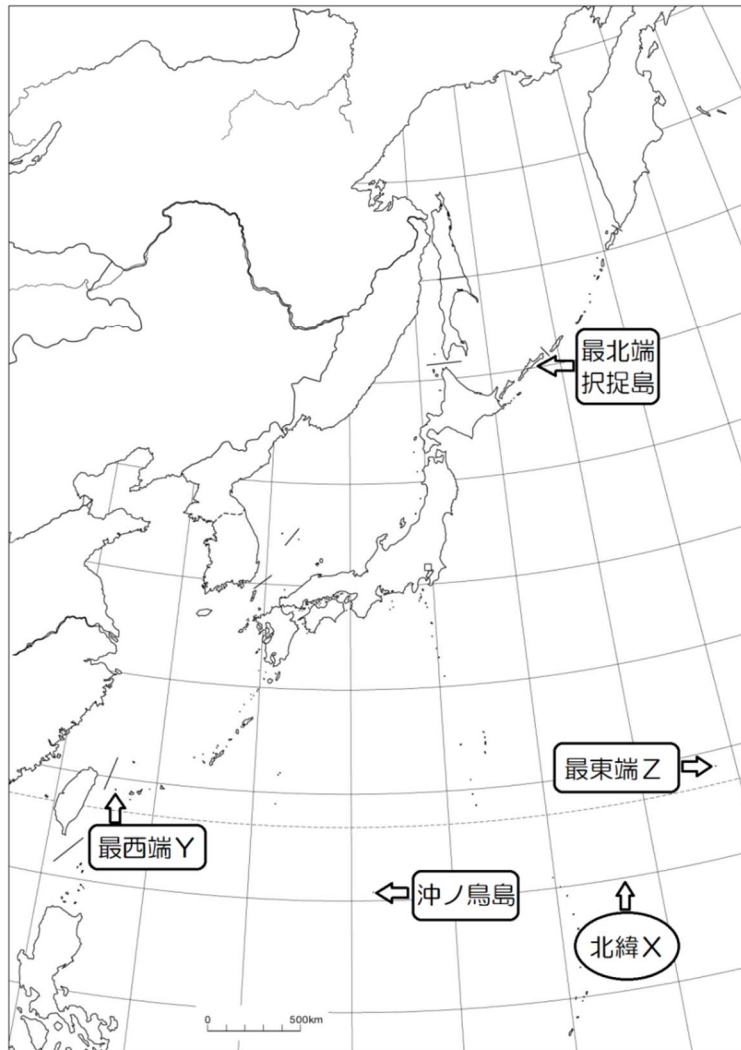
(「2018 データブック オブ・ザ・ワールド」より作成)



- (2) ブラジルは、長い間コーヒー豆の輸出に依存した経済でした。このように、1つの国が1つまたは少数の農産物や鉱産資源に依存している経済を何といいますか。カタカナで答えなさい。
- (3) ヨーロッパの言語は、大きく分けて3つの系統に分類されます。フランス語はどの系統に属しますか。次のア～ウの中から1つ選んで、記号で答えなさい。

ア スラブ語系 イ ラテン語系 ウ ゲルマン語系

問4 下線部④について、次の図を見て下の(1)・(2)の各問いに答えなさい。



- (1) 最南端に位置する沖ノ鳥島の南側を通る北緯Xは何度ですか。次のア～エの中から1つ選んで、記号で答えなさい。
- ア 10度 イ 20度 ウ 30度 エ 40度
- (2) 沖ノ鳥島以外の日本の端について、最西端Yと最東端Zの組合せとして正しいものを、次のア～エの中から1つ選んで、記号で答えなさい。
- ア Y－与那国島 Z－南大東島 イ Y－南鳥島 Z－硫黄島
 ウ Y－与那国島 Z－南鳥島 エ Y－南大東島 Z－硫黄島

問5 下線部⑤について、次の(1)・(2)の各問いに答えなさい。

(1) 排他的経済水域とは何海里ですか。次のア～エの中から1つ選んで、記号で答えなさい。

ア 12海里 イ 20海里 ウ 120海里 エ 200海里

(2) 次の表のA～Dにあてはまる国として正しい組合せを、下のア～エの中から1つ選んで、記号で答えなさい。

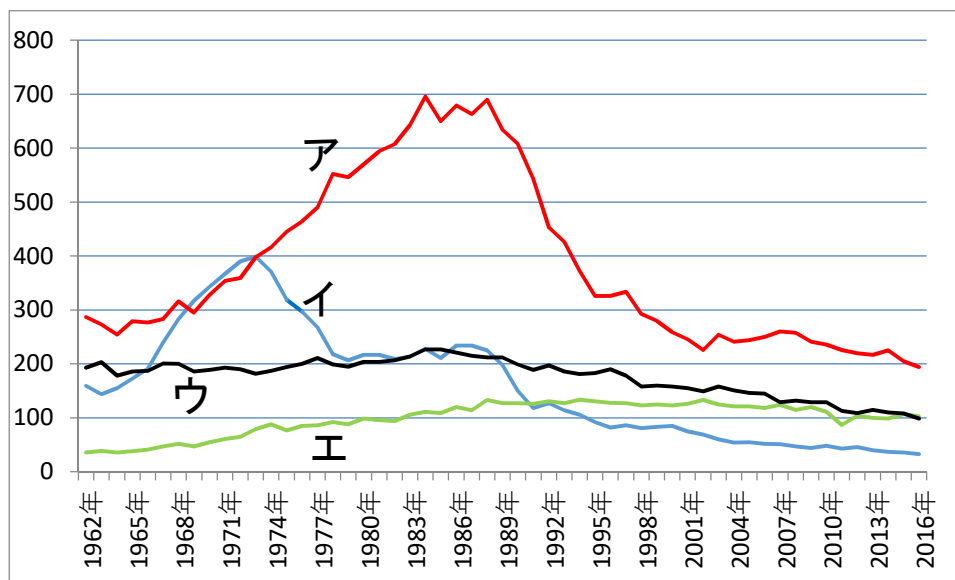
	領土面積 (万km ²)	領海+排他的経済水域 (万km ²)
A	983.4	762
B	37.8	447
C	851.6	317
D	998.5	470

(「2018年度版 地理データファイル」より作成)

ア A - ブラジル B - カナダ C - アメリカ合衆国 D - 日本
 イ A - アメリカ合衆国 B - カナダ C - ブラジル D - 日本
 ウ A - アメリカ合衆国 B - 日本 C - ブラジル D - カナダ
 エ A - ブラジル B - 日本 C - アメリカ合衆国 D - カナダ

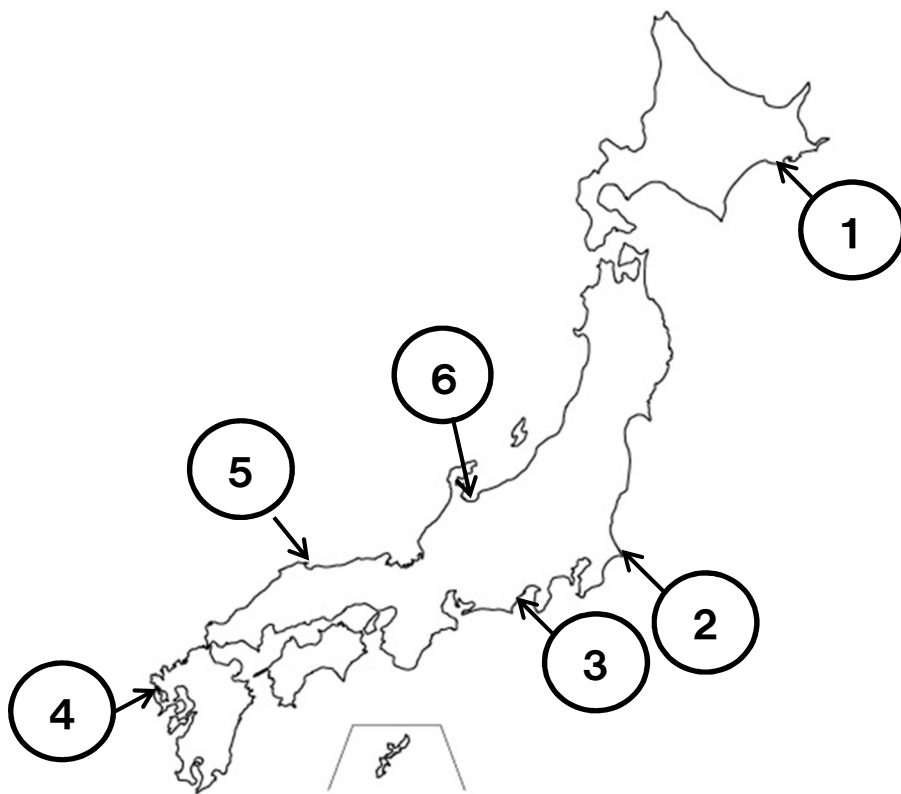
問6 下線部⑥について、次の(1)・(2)の各問いに答えなさい。

(1) 次のグラフは、日本の漁業部門別生産量(沿岸漁業・沖合漁業・遠洋漁業・海面養殖漁業)の推移を示したものです。遠洋漁業を示すものとして正しいものを、グラフ中のア～エの中から1つ選んで、記号で答えなさい。(縦軸：単位は万t)



(農林水産省「漁業・養殖業生産統計」より作成)

- (2) 日本の漁港別水揚げ量の上位3港(「2018 データブック オブ・ザ・ワールド」)は、銚子港・焼津港・境港の順となっています。次の地図を見て、この3港の位置の組合せとして正しいものを、下の表中の**ア**～**エ**の中から1つ選んで、記号で答えなさい。



	銚子港	焼津港	境港
ア	⑥	②	④
イ	②	③	⑤
ウ	③	①	⑥
エ	⑤	④	①

- 問7** 下線部⑦について、次の表は中国が生産量第1位の農産物の統計です。**X**にあてはまる農産物を、下の**ア**～**エ**の中から1つ選んで、記号で答えなさい。

	X の生産	
1 位	中国	17.3%
2 位	インド	13.1%
3 位	ロシア	8.2%
4 位	アメリカ合衆国	7.6%
5 位	フランス	5.3%
合計	72,901 万 t	

(「2018 データブック オブ・ザ・ワールド」より作成)

ア 米 **イ** 大豆 **ウ** 小麦 **エ** 茶

問 8 下線部⑧について述べた文として誤っているものを、次のア～エの中から 1 つ選んで、記号で答えなさい。

ア 日本の安全保障のためには、国際社会が平和であることが不可欠であり、日本は国連の安全保障理事会の常任理事国として大きな責任を負っている。

イ 日本は日米安全保障条約によって、有事の際に米軍の協力が得られることになっており、このために日本国内に米軍が基地を設けることを認めている。

ウ 日本は核兵器を一切保有しないことにしており、「持たず、作らず、持ち込ませず」の非核三原則を掲げている。

エ 日本はテロへの脅威^{きょうい}の高まりを受け、武力攻撃を受けた時の対応を想定した武力攻撃事態対処法など、有事関連三法を成立させた。

問 9 下線部⑨について、次の（１）・（２）の各問いに答えなさい。

（１） 自衛隊について述べた文として誤っているものを、次のア～エの中から 1 つ選んで、記号で答えなさい。

ア 自衛隊は憲法が禁じる「戦力」にはあらず、「自衛のための必要最小限度の実力」であると日本政府は解釈している。

イ 日本と同盟関係にある国が武力攻撃を受けた際に、自国が攻撃されていなくても武力でこれを阻止する集団的自衛権については、日本政府は認めていない。

ウ 戦前の日本では、天皇が軍隊の最高指揮権を持っていたが、これを軍部に利用されたことに対する反省から、現在の自衛隊は軍人でない文民によってコントロールされている。

エ 2001 年の「同時多発テロ」の後、アメリカは国家間の戦争とは別の「テロとの戦い」を始めたが、日本は後方支援のために自衛隊を海外に派遣した。

（２） 日本は、紛争などに対して世界から人的貢献が求められるようになり、国際平和協力法（PKO 協力法）を制定しました。この法のもとで自衛隊が初めて派遣された国として正しいものを、次のア～エの中から 1 つ選んで、記号で答えなさい。

ア カンボジア イ ソマリア ウ スーダン エ ネパール

Ⅱ 次の【A】～【C】の文は、世界三大宗教である仏教・キリスト教・イスラム教について述べたものです。それぞれの文を読んで、後の問いに答えなさい。

【A】 ①インドでは、紀元前6世紀ごろ、シャカが身分に関わらず人は平等であるとして仏教を開いた。やがて仏教は東南アジアや②中国・③朝鮮へも伝わった。6世紀には④日本へと伝えられ、政治・文化・社会にも大きな影響を与えた。その後、⑤鎌倉時代には、一般の人々に受け入れられる新しい教えが次々とうまれた。鎌倉幕府や⑥室町幕府のもとで保護された禅宗は、文化面にも大きな影響を与え、⑦北山文化・東山文化を生み出す一因となった。

【B】 西アジアのパレスチナで、1世紀初めイエスの教えをもとにキリスト教がうまれた。その後、キリスト教は【 X 】帝国で公認され、ヨーロッパ中に広まった。中世の西ヨーロッパ諸国の王や貴族たちは、教皇を首長とするカトリック教会と結びつきを強めたため、カトリック教会が大きな影響力を持つようになった。しかし、16世紀の⑧宗教改革によるヨーロッパでのカトリック信者減少により、カトリック教会は信者獲得のために海外への布教をせまられた。キリスト教は⑨日本には戦国時代に伝わったが、⑩江戸時代に禁教令が出されてキリシタンは弾圧され、⑪島原・天草一揆の一因となった。⑫明治時代になると、当初禁止されていたキリスト教は後に認められ、各地に教会も建てられた。

【C】 西アジアのメッカで、7世紀初め【 Y 】によってイスラム教が始められた。その教えが広まり、8世紀には中央アジアから北アフリカにかけて広大なイスラム世界がつくられた。イスラム世界では商業が盛んになり、イスラム商人は8世紀には⑬海の道を利用して中国と貿易を行った。また⑭十字軍の遠征後には、イタリア商人との貿易も盛んに行った。13世紀末にはトルコの地域にオスマン帝国が、16世紀初めには北インドに⑮ムガル帝国がそれぞれ建国され、イスラム教徒の国として栄えた。20世紀に⑯第一次世界大戦が起こり、ヨーロッパ諸国が進出したことで、オスマン帝国は領土の大半を失った。

問1 下線部①について、紀元前2600年ごろインダス川流域におこった文明について、この文明に関係の深いものとして正しいものを、次のア～エの中から1つ選んで、記号で答えなさい。

ア




イ



ウ



エ



問2 下線部②について、仏教が中国に伝わったのは漢の時代とされています。中国の王朝を成立した順に並べたとき、漢王朝が入る位置として正しいものを、次の（ア）～（エ）の中から1つ選んで、記号で答えなさい。

（ア）－ 秦 － （イ）－ 隋 － （ウ）－ 唐 － （エ）

問3 下線部③について、朝鮮の歴史に関する次のⅠ～Ⅳの文を年代の古い順に並べかえたものとして正しいものを、下のア～エの中から1つ選んで、記号で答えなさい。

- Ⅰ 三・一独立運動がおこり、朝鮮総督府はこれを弾圧した。
- Ⅱ 江華島事件を口実にして、日本は朝鮮と日朝修好条規を結んだ。
- Ⅲ ソ連の支援を受けた北朝鮮が韓国に攻め込み、朝鮮戦争が始まった。
- Ⅳ 東学を信仰する農民たちを中心に、政治改革をめざす反乱がおこった。

ア Ⅳ→Ⅱ→Ⅲ→Ⅰ イ Ⅳ→Ⅱ→Ⅰ→Ⅲ ウ Ⅱ→Ⅳ→Ⅲ→Ⅰ エ Ⅱ→Ⅳ→Ⅰ→Ⅲ

問4 下線部④について、次の（１）・（２）の各問いに答えなさい。

（１） 日本に仏教が伝わった頃の様子として正しいものを、次のア～エの中から1つ選んで、記号で答えなさい。

- ア 大陸から伝わった金属器の中で、青銅器は銅鐸・銅鏡・銅剣などとして使われた。
- イ 中央の財政を受け持った蘇我氏が渡来人と結び、大和政権の実権を握った。
- ウ 律と令に基づいて、国を治める律令国家のしくみが定められた。
- エ 貴族は寝殿造とよばれる住居に住み、日本の風景や人物を描いた大和絵が生まれた。

（２） 日本の仏教に関する次のⅠ～Ⅲの文を古い順に並べかえたものとして正しいものを、下のア～カの中から1つ選んで、記号で答えなさい。

- Ⅰ 死後に極楽浄土へ生まれ変わることを願う信仰が広まった。
- Ⅱ 聖武天皇が仏教の力で国を守ろうとし、東大寺を建てた。
- Ⅲ 密教が天皇や貴族に信仰され、仏教の中心となった。

ア Ⅰ→Ⅱ→Ⅲ イ Ⅰ→Ⅲ→Ⅱ ウ Ⅱ→Ⅰ→Ⅲ
エ Ⅱ→Ⅲ→Ⅰ オ Ⅲ→Ⅰ→Ⅱ カ Ⅲ→Ⅱ→Ⅰ

問5 下線部⑤について、鎌倉時代の新しい仏教の宗派と開祖の組合せとして正しいものを、次のア～エの中から1つ選んで、記号で答えなさい。

ア 浄土宗－親鸞 イ 天台宗－最澄 ウ 真言宗－空海 エ 時宗－一遍

問6 下線部⑥について、室町幕府において、将軍の補佐をする役職名を答えなさい。

問7 下線部⑦について述べた文として正しいものを、次のア～エの中から1つ選んで、記号で答えなさい。

- ア 水墨画がさかんになり、禅僧の栄西は「秋冬山水図」などの名作を残した。
- イ 観阿弥と世阿弥によって大成された能の合間に、連歌が詠まれた。
- ウ 畳を敷いて床の間を設ける書院造が生まれ、枯山水の手法で石庭がつくられた。
- エ 『日本永代蔵』や『曾根崎心中』などの浮世草子が井原西鶴によって描かれた。

問8 下線部⑧について、宗教改革に関する次のa・bの文について、その正誤の組合せとして正しいものを、下のア～エの中から1つ選んで、記号で答えなさい。

a ルターは、教皇や教会の権威を否定し、聖書に基づいた信仰の大切さを唱え、免罪符の販売を批判した。

b カルバンは、人は神の救いを信じて職業にはげむべきであると主張し、その教えはヨーロッパの商工業者に広く受け入れられた。

ア a－正 b－正 イ a－正 b－誤 ウ a－誤 b－正 エ a－誤 b－誤

問9 下線部⑨について、日本にキリスト教が伝わり、戦国大名のなかにも信者になる者が現れました。高槻城城主であったキリシタン大名で、禁教令が出された後もキリスト教を棄てず、マニラに追放された人物名として正しいものを、次のア～エの中から1つ選んで、記号で答えなさい。

ア 大村純忠 イ 有馬晴信 ウ 高山右近 エ 大友義鎮

問10 下線部⑩について、江戸幕府は朝廷や大名を統制し支配下におきました。その内容に関する次のa・bの文について、その正誤の組合せとして正しいものを、下のア～エの中から1つ選んで、記号で答えなさい。

a 幕府は京都所司代をおいて朝廷を監視し、積極的に天皇を政治に参加させた。

b 幕府は武家諸法度を定めて大名を統制し、築城や婚姻について制限を設けた。

ア a－正 b－正 イ a－正 b－誤 ウ a－誤 b－正 エ a－誤 b－誤

問11 下線部⑪について、島原・天草一揆の後の出来事に関する次のa・bの文について、その正誤の組合せとして正しいものを、下のア～エの中から1つ選んで、記号で答えなさい。

a すべての人が仏教徒であることを寺院に証明させる寺請制度が強化された。

b ポルトガル船の来航を禁止し、平戸のオランダ商館を出島に移した。

ア a－正 b－正 イ a－正 b－誤 ウ a－誤 b－正 エ a－誤 b－誤

問12 下線部⑫について、明治時代の初期には「自由」や「権利」などの欧米の思想が日本に紹介されました。そのような思想を紹介した人物の中で、ルソーの『社会契約論』を訳し、「東洋のルソー」と呼ばれた人物名を答えなさい。

問13 下線部⑬について、海の道について述べた次の文の（ a ）・（ b ）にあてはまる語句の組み合わせとして正しいものを、下のア～エの中から1つ選んで、記号で答えなさい。

海の道は、地中海からアラビア半島・インド洋を経て、東南アジア・中国に至るルートで、（ a ）を利用して遠隔地と貿易が盛んにおこなわれた。また貿易品では、中国産の（ b ）が盛んに輸送され、貿易船のおもりにも使われた。

ア a－偏西風 b－陶磁器 イ a－偏西風 b－金貨


ウ a－季節風 b－陶磁器 エ a－季節風 b－金貨

問14 下線部⑭について、十字軍の目的は、イスラム教徒の勢力下にあった都市を奪還することにある。この都市名を答えなさい。


問15 下線部⑮について、ムガル帝国はイギリスによって滅ぼされ、インドは植民地支配を受けました。その後、イギリスから完全な自治を求めて「非暴力・不服従」運動を起こし、独立運動を推し進めた人物名を答えなさい。

問 16 下線部⑬について、第一次世界大戦中の日本の様子を表わした絵として正しいものを、次のア～エの中から1つ選んで、記号で答えなさい。

ア



イ



ウ



エ



問 17 [B]・[C] の文中【 X 】・【 Y 】にあてはまる語句をそれぞれ答えなさい。

Ⅲ 次の文章を読んで、後の問いに答えなさい。

江戸時代に「天下の台所」と呼ばれた大阪は、明治以降も東京と並ぶ日本経済の中心として大きく発展しました。産業革命が始まると、繊維、金属や機械などの製造業の分野で多くの①企業が設立されました。

さらに大阪は、②販売や流通、③金融といったサービス業の分野でもめざましい発展をしてきました。

近年グローバル化がすすむ中で、大阪の各企業は、地理的關係から特にアジアの国々とつながりを深めています。これらの国々との間で④製品を輸出入するだけでなく、工場や店舗を進出させて、社員を派遣したり、⑤現地の従業員を雇用したりすることによって、互いの経済発展に大きく貢献しています。

また最近、⑥大阪には多くの外国人観光客が訪れ、観光産業の面でも飛躍的に発展しています。これは大阪が、京都や奈良の古都に近いからだけではなく、独自の文化によって注目されていることにもよります。

一方で東京は、⑦国会や⑧内閣や⑨最高裁判所など、日本の政治の中心的な機能が集まり、首都としての重要な役割を果たしています。しかし現在、東京にこうした機能が集中しすぎているので、大阪を含め地方にこの機能の一部を移転すべきだという声もあります。

昨年 11 月には、2025 年に万国博覧会を開催することが B I E（博覧会国際事務局）の総会で決定しました。こうしたことから、今後大阪にはさらなる発展が期待されます。しかし残念ながら大阪には、⑩犯罪の発生率が高いことや、緑が少ないといった負の側面があるのも事実です。大阪がこれから東京と並んで世界に開かれた魅力ある都市として発展していくためには、こうした課題を克服して公園や緑地を増やし、豊かな⑪自然環境のもとで⑫人びとが安心して快適に暮らせる都市環境をつくる必要があります。

問 1 下線部①について、現在の大阪には多くの大企業があります。これに関して述べた文として正しいものを、次のア～エの中から 1 つ選んで、記号で答えなさい。

- ア 現在、製造業においては、300 人以上の従業員を持つ企業が大企業とされ、日本の企業数の約 20% を占めている。
- イ 規模の大きな大企業には、地球環境への配慮や地域社会への貢献といったメセナ活動が法律で定められている。
- ウ 現在、大企業の多くを占める株式会社は、最も多くの株を買って資金を提供した株主が取締役社長となって経営されている。
- エ 少数の大企業による市場の寡占化は、独占禁止法により禁じられており、その運用のため公正取引委員会が設置されている。

問 2 下線部②について述べた文として誤っているものを、次のア～エの中から 1 つ選んで、記号で答えなさい。

- ア 購入した商品にかかる消費税は、購入者が払った税金を、商品を販売した店がまとめて国や地方に納める間接税である。
- イ 商品が売れた数量や時間、客の情報などをレジやバーコードから集計・管理する P O S システムが普及し、企業にとって重要な情報を提供している。
- ウ 自由な経済活動の下で、ある商品を買いたい人々の需要が、売る側の供給よりも少ないと、価格は上昇する。
- エ 流通関連業には、商品を運ぶ運送業や保管する倉庫業、荷物の損害を補償する保険業や商品を宣伝する広告業が含まれる。

問 3 下線部③について、金融機関の代表である銀行に関して述べた文として誤っているものを、次のア～エの中から 1 つ選んで、記号で答えなさい。

- ア 銀行は、預金者に利子を支払うが、これより高い利子で貸し出しを行って、その差額を利益とする。
- イ 銀行は、為替や口座振替など、現金を直接送らず、代金の支払いを済ませる様々な決済サービスを行っている。
- ウ 銀行は、企業に資金を貸し出したり、家計に対して住宅ローンの貸し出しなどを行うが、このことを直接金融という。
- エ 銀行は、金融機関の中心として経済の発展に大きな役割を果たしてきたが、バブル経済が崩壊した 1990 年代には経営が悪化するものが多かった。

問4 下線部④について述べた文として誤っているものを、次のア～エの中から1つ選んで、記号で答えなさい。

- ア 現在、日本の貿易収支は、家電製品やスマートフォンの輸出が好調なために、大幅な黒字となっている。
- イ 自由貿易により、お互いの国が発展すると主張されている一方で、輸入品に高い関税をかけ、国内産業を守る保護貿易が必要であるという主張もみられる。
- ウ 日本は高い技術力を生かして、自動車などの工業製品を盛んに輸出し、大豆・とうもろこしなどの農産物の多くを輸入している。
- エ 商品の輸出入にともなって通貨が取り引きされる際の為替レートは、原則として各通貨に対する需要と供給のバランスで決まる。

問5 下線部⑤について述べた文として誤っているものを、次のア～エの中から1つ選んで、記号で答えなさい。

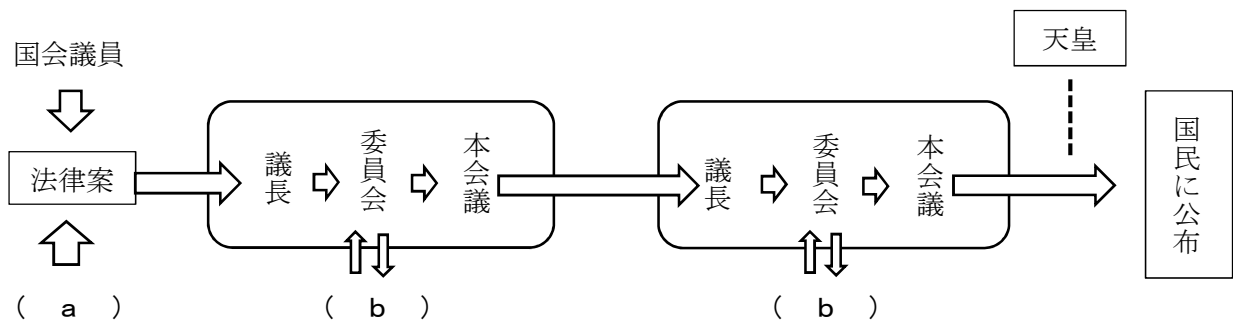
- ア 製造業が海外に進出することは、その国の工業化を図ることになり、現地の従業員を雇用することにより、貿易摩擦の解消にもつながる。
- イ 多くの製造業が海外に進出することによって、国内の製造業が衰退する産業の空洞化が生じるおそれがある。
- ウ 日本の多くの製造業が海外に進出することの理由の一つには、安価な労働力をもとめるということがある。
- エ 日本から派遣した労働者が現地の企業で働いて得た収入は、日本の国内総生産（GDP）の中に含まれる。

問6 下線部⑥について述べた文として誤っているものを、次のア～エの中から1つ選んで、記号で答えなさい。

- ア 外国人観光客の玄関口となる関西国際空港のアクセスをより便利にするために、JR大阪駅の北側に地下駅をつくって、直通電車を乗り入れる計画がすすめられている。
- イ 現在東京から金沢まで運行している北陸新幹線を、さらに新大阪まで伸ばす計画がすすめられていて、実現すれば外国人観光客が大阪から他の地域に速やかに移動できるようになる。
- ウ 外国人観光客が急増して手狭になった卸売市場を、南港に移転することが決まったが、その過程で移転先の地下水の汚染が問題となり、府議会で大きく取り上げられた。
- エ 外国人観光客の利用を想定して、夢洲にIRというカジノを含む統合型リゾート施設をつくる計画がすすめられている。

問7 下線部⑦について、次の(1)・(2)の各問いに答えなさい。

- (1) 国会で法律がつくられる流れを表した次の図の(a)・(b)にあてはまる語句の組合せとして正しいものを、下のア～エの中から1つ選んで、記号で答えなさい。



- ア a－内閣 b－公聴会 イ a－地方議員 b－公聴会
ウ a－内閣 b－両院協議会 エ a－地方議員 b－両院協議会

- (2) 国会に関する次のa・bの文について、その正誤の組合せとして正しいものを、下のア～エの中から1つ選んで、記号で答えなさい。

- a 不適任な国会議員を辞めさせるかどうかを決めるため、弾劾裁判を行うことが出来る。
b 臨時国会は衆議院の解散による総選挙の日から、30日以内に召集される。

- ア a－正 b－正 イ a－正 b－誤 ウ a－誤 b－正 エ a－誤 b－誤

問8 下線部⑧について、内閣の役割として誤っているものを、次のア～エの中から1つ選んで、記号で答えなさい。

- ア 外国と交渉して条約を結ぶ。 イ 最高裁判所の長官を任命する。
ウ 天皇の国事行為に助言や承認を与える。 エ 行政事務全般を指揮監督する。

問9 下線部⑨について述べた次の文の()にあてはまる語句を漢字2字で答えなさい。

最高裁判所は、法律や規則が憲法に違反していないかどうかを最終的に判断する権限を持っていることから「憲法の()」と呼ばれています。

問10 下線部⑩について述べた文として正しいものを、次のア～エの中から1つ選んで、記号で答えなさい。

- ア 犯罪とは個人や社会に対して危害を加える違法行為であり、殺人や窃盗とともに詐欺や脱税、名誉毀損^{きそん}などさまざまなものが含まれる。
イ 犯罪の事実が認められた場合、法律に基づいて刑罰が決められるが、その事件を裁く法律がない場合は最高裁判所で判断される。
ウ 犯罪の疑いがあるって取り調べが行われる場合、被疑者は疑いを晴らすために捜査に全面的に協力しなければならない、知っている限りのことを速やかに申し述べなければならない。
エ 犯罪の疑いをかけられた者が取り調べで自白した場合、他に証拠がなくても有罪となるので、捜査官は虚偽の自白を強要するような無理な取り調べをしてはならない。

問 11 下線部⑪について述べた文として誤っているものを、次のア～エの中から 1 つ選んで、記号で答えなさい。

ア 良好な環境の下で健康に暮らす権利である環境権は、憲法第 13 条の幸福追求権や第 25 条の生存権を根拠に主張されている。

イ 大阪は高度経済成長期に、地盤沈下や交通渋滞、大阪国際空港周辺の騒音問題や堺市の光化学スモッグといった都市公害に悩まされた。

ウ 自然環境の問題は世界全体で考えなければならず、特に温室効果ガスによる地球温暖化は深刻な問題であり、1997 年に京都で開かれた会議では、各国に排出量の削減が義務付けられた。

エ 自然環境を守るために、化石燃料に依存しないエネルギーの利用がすすめられており、日本では環境への負荷の少ない原子力発電の割合が増加している。

問 12 下線部⑫について述べた文として誤っているものを、次のア～エの中から 1 つ選んで、記号で答えなさい。

ア 人々が安心して快適に暮らすためには、社会保障の仕組みが必要であり、この中には収入が少なく生活が困難な人に対して、生活費や教育費などを給付する公的扶助が含まれる。

イ 人々が安心して快適に暮らすための医療保険や年金は、日本では行政改革によって公的には扱われないようになり、民間の金融機関が扱うようになった。

ウ 人々が安心して快適に暮らすためには、ノーマライゼーションの考え方は必要であり、それは高齢者や障がい者が社会の中で他の人々と同じように生活することを意味する。

エ 人々が安心して快適に暮らすために必要な社会福祉の費用に税金が使われており、この多くを占める所得税は、所得の多い人が高い税率で納める仕組みになっているので、これによって極端な経済的格差が是正される。