

1 次のA～Gは戦いや戦争に関する写真、絵とその説明文です。それぞれの文章を読んで、各問いに答えなさい。

A



①吉野ヶ里遺跡から出土したかめ棺に納められている人骨に、矢じりがささった跡や頭部がないものがいくつか見られました。集落の周囲に二重の濠を張りめぐらした跡などが見つかったことから、クニどうして戦いがあったことがわかりました。

B



②前方後円墳は大王や地域の豪族たちの墓です。4世紀ごろにつくられたものからは銅鏡が多く出土しました。③5世紀以降につくられたものからは鉄製のよろいやかぶと、剣などの武具が多く出土するようになりました。

C



武士は朝廷や貴族の警備にあたりました。④地方の反乱を鎮圧したり、朝廷や貴族の対立に巻き込まれたりしながら力を付け、特に力を付けた（あ）が武士で初めて太政大臣につきました。しかし彼の死後、壇ノ浦の戦いで（あ）の一族は滅びました。

D



15世紀の中ごろ、⑤京都を中心に11年間にわたる戦いが起こりました。これをきっかけに約100年間、各地の大名が争いを続ける時代になります。この時代は⑥織田信長、豊臣秀吉により終わりをづけました。

E



年貢の取り立てや⑦キリスト教の取り締まりの厳しさにたえかねた島原や天草の農民たちが一揆を起こしました。一揆の軍勢は城跡に立てこもって抵抗しましたが、⑧江戸幕府は大軍を派遣してこれを鎮圧しました。

F



日清戦争に勝利した日本は、山口県の（い）で⑨清と講和条約を結びました。その後ロシアとの対立が深まり、日露戦争が起こりました。この戦争は、アメリカの仲介により⑩講和条約が結ばれました。

G



1945年には⑪アメリカ軍による日本への攻撃が激しくなり、全国の都市が空襲を受け多くの命がうばわれました。そして日本は⑫連合国側に降伏し、その後アメリカを中心とする連合国軍指導のもと、⑬戦前と大きく異なる政策を進めていきました。

問1 下線部①について、吉野ヶ里遺跡の位置として正しいものを、右の地図中のア～エから1つ選んで、記号で答えなさい。

問2 下線部②について、この古墳の上や周りに並べられた土製の焼き物を何といいますか。ひらがな3字で答えなさい。

問3 下線部③について、この時期につくられた大阪府堺市にある日本で最も大きな古墳の名を答えなさい。

問4 下線部④について、東北地方の反乱がしずめられたあと、東北の支配者となったのは奥州藤原氏でした。奥州藤原氏が建てた中尊寺にある仏像として正しいものを、次のア～エから1つ選んで、記号で答えなさい。





ア

イ

ウ

エ




問5 下線部⑤について、この戦い以降の出来事を述べた文として正しいものを、次のア～エから1つ選んで、記号で答えなさい。

- ア 貴族や僧が地方に移り京都の文化を伝えた。
- イ 足利義政が京都の東山に金閣を建てた。
- ウ 山城国で一向一揆が起り、百姓が守護を滅ぼした。
- エ スペイン人が種子島に漂着し、鉄砲を伝えた。

問6 下線部⑥について、織田信長が行ったことを述べた文として正しいものを、次のア～エから1つ選んで、記号で答えなさい。

- ア 農民たちに一揆を起させないように、刀狩令を出した。
- イ 支配した地域に関所を設け、関所を通る際に税を取った。
- ウ 関ヶ原の戦いに勝利し、天下を統一した。
- エ 安土城下では、商人や職人が自由に商売することを認めた。

問7 下線部⑦について、長崎では正月行事として、右の絵のようなことが行われ、人々はキリスト教徒ではないことを証明していました。この行為を何といいますか。答えなさい。



問8 下線部⑧について、江戸幕府の3代将軍徳川家光の時代に行われたこととして正しいものを、次のア～エから1つ選んで、記号で答えなさい。

- ア 幕府の元役人が大阪で起こした反乱を鎮圧した。
- イ 大名が江戸と領国を往復する参勤交代の制度が確立された。
- ウ 生き物を大切にす命令が出され、犬の保護施設がつくられた。
- エ 国交が途絶えていた朝鮮と交渉を重ねて、交流を再開させた。

問9 下線部⑨について、この条約を結んだ後にリヤオトン半島（遼東）を清に返すように要求した国の名の組み合わせとして正しいものを、次のア～エから1つ選んで、記号で答えなさい。

- ア ロシア・イギリス・イタリア イ ロシア・フランス・ドイツ
- ウ イギリス・フランス・ドイツ エ イギリス・ドイツ・イタリア

問10 下線部⑩について、この講和条約の内容として誤っているものを、次のア～エから1つ選んで、記号で答えなさい。

- ア 日本は、多額の賠償金を得た。
- イ 日本は、樺太の南半分を得た。
- ウ 日本は、南満州の鉄道の権利を得た。
- エ 日本は、ロシアに対して朝鮮への優越権を認めさせた。

問11 下線部⑪について、戦争中の人々の様子を説明している文として誤っているものを、次のア～エから1つ選んで、記号で答えなさい。

- ア 教育制度が、小学校6年間、中学校3年間の義務教育となった。
- イ 労働力不足になったので、女子生徒も工場などで働いた。
- ウ 米、野菜や衣類などは、国が管理し、国民に配給した。
- エ 学校生活も軍隊式のものになり、戦争の訓練なども行われた。

問12 下線部⑫について、1951年、連合国側と日本との間で講和会議が開かれました。この会議が開かれた都市として正しいものを、次のア～エから1つ選んで、記号で答えなさい。

- ア ロサンゼルス イ ポツダム ウ サンフランシスコ エ ベルサイユ

問13 下線部⑬について、日本の戦後の政策の内容として誤っているものを、次のア～エから1つ選んで、記号で答えなさい。

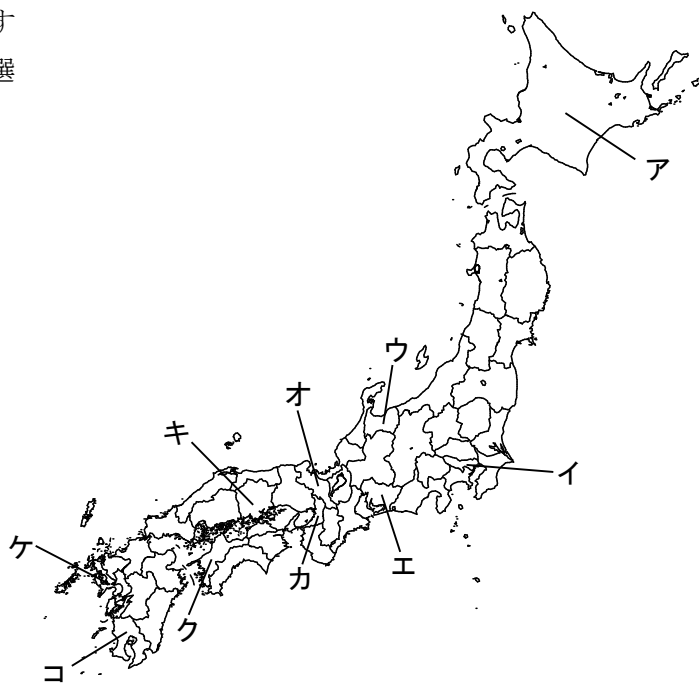
- ア 女性の選挙権が保障された。 イ 日本を守るため日本軍は残された。
- ウ 労働組合の結成が進められた。 エ 農民の多くが、自分の土地を持つことになった。

問14 Cの文中（あ）にあてはまる人物の名を、Fの文中（い）にあてはまる地名をそれぞれ答えなさい。

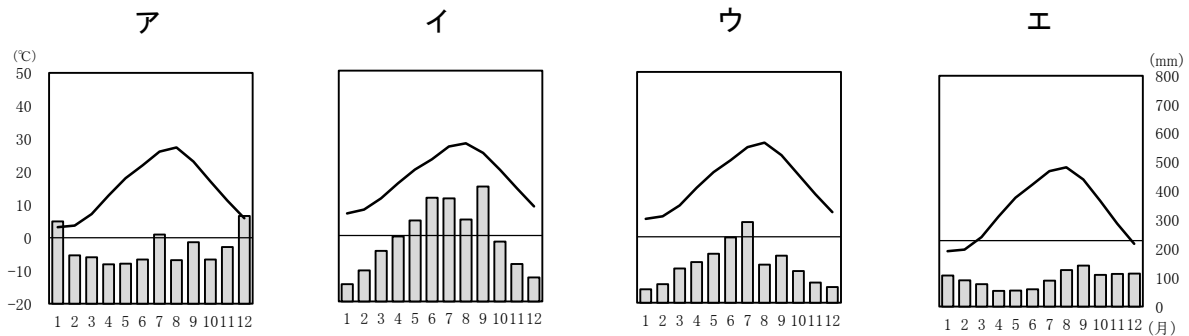
2 2023年8月、栃木県宇都宮市に新たな路面電車の路線が全線開業する予定です。次のA～Eの文章は、日本国内で路面電車が走っている都市に関するものです。それぞれの文章を読んで、各問いに答えなさい。

- A 豊橋鉄道市内線は、渥美半島のつけ根に位置する豊橋市を走ります。かつて、渥美半島は水不足に悩まされましたが、豊川や天竜川を水源とする用水路が整備されたことで渥美半島に農地が整備され農業が発展しました。豊橋市は全国有数のキャベツの産地として有名です。また、三河湾内には三河港があり、①自動車の輸出入、特に輸入がさかんに行われています。
- B 万葉線は高岡市と射水市を走ります。路線名は万葉集をまとめたとおされる大伴家持が越中の国司をつとめていたことなどに由来します。高岡市は日本海に面した砺波平野に位置する市で、米づくりがさかんだけでなく、②チューリップの球根の栽培も有名です。また、古くから鋳物や銅器などの金属加工がさかんで、現在は③アルミニウムの加工もさかんです。
- C 函館市の路面電車は2路線あります。そのうちの1つは、市内にある④造船所の付近から函館山のふもとを通り函館駅へ、そして五稜郭付近を通り、湯の川温泉まで行くものです。函館山のふもとには博物館や資料館、歴史的建造物があり、観光地となっています。また、沿線には卸売市場があり、その市場内の食堂は一般開放され、市場直送の⑤魚介類を味わうことができます。
- D 広島電鉄は広島市と廿日市市を走ります。路線は8系統あり、そのうち1つの系統では、市内にある世界文化遺産で、「負の遺産」とよばれている(⑥)の前を通ります。多くの車両がまちを走っていますが、その中には⑦交通の変化などにより路面電車が廃止になった都市を走っていた車両を引き取ったものなどもあり、「動く電車の博物館」とよばれています。
- E 熊本市交通局は社会の⑧高齢化に対応するため、日本で初めて路面電車に低床車両を導入しました。さらに、環境問題への対応として、(⑨)現象の対策や騒音軽減の効果が得られるとして、線路が敷いてある部分に芝を植える取り組みを行っています。2016年の⑩地震で被害を受けた熊本城の前にある駅は緑のじゅうたんが敷いてあるようにみえます。

問1 A～Cの文章が示している都市が位置する都道府県を、右の地図中のア～コから選んで、それぞれ記号で答えなさい。

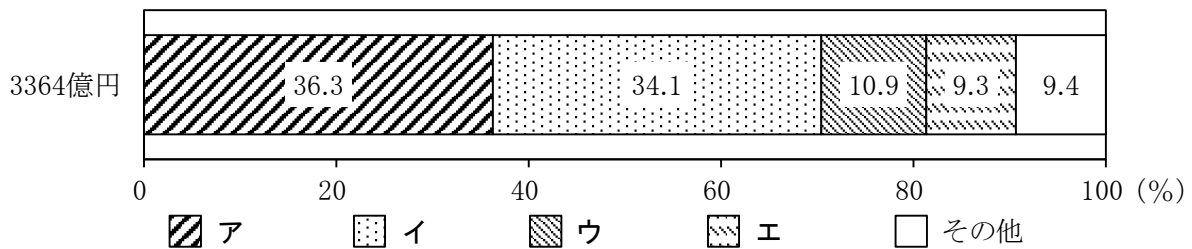


問2 次のグラフは、Dの文中にある広島市と、路面電車が現在走っている札幌市、福井市、高知市の雨温図を示しています。広島市にあてはまるものとして正しいものを、次のア～エから1つ選んで、記号で答えなさい。



[気象庁ホームページより作成]

問3 Eの文章について、次のグラフは熊本県の農業産出額とそれに占める野菜、果実、米、畜産物の割合(2019年)を示しています。野菜にあてはまるものとして正しいものを、次のア～エから1つ選んで、記号で答えなさい。



[データでみる県勢2022より作成]

問4 下線部①について、次の表は日本の自動車の輸出入相手国を金額(2020年)が多い順に5位までを示したものです。表中の(X)・(Y)の国の組み合わせとして正しいものを、次のア～エから1つ選んで、記号で答えなさい。

順位	日本の自動車の輸出相手国	(%)	順位	日本の自動車の輸入相手国	(%)
1	アメリカ	36.2	1	(Y)	31.7
2	(X)	9.5	2	アメリカ	9.6
3	オーストラリア	7.5	3	タイ	8.9
4	カナダ	3.1	4	イギリス	8.7
5	アラブ首長国	2.9	5	イタリア	7.2

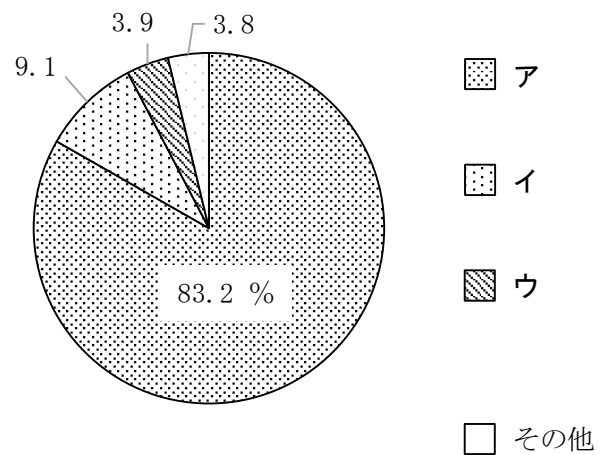
[日本国勢図会2022/23より作成]

- ア X-フランス Y-中国 イ X-中国 Y-ドイツ
 ウ X-ドイツ Y-韓国 エ X-韓国 Y-フランス

問5 下線部②について、次の文はチューリップの球根栽培が世界有数の国を説明したものです。この国の名を答えなさい。

- 面積は約4.2万 km²で、九州と同じぐらいの面積である。
- ポルダーとよばれる干拓地が多く、干拓地を排水するために風車が使われていた。
- 酪農がさかんで、チーズなどの乳製品の輸出がさかんである。
- 江戸時代、日本が鎖国をしていた時期に日本が貿易をしていた唯一のヨーロッパの国である。

問6 下線部③について、アルミニウムの加工には多くの電気が必要です。高岡市でこの工業が発展したのは、水力発電所からの電気が得やすかったからです。右のグラフは日本の発電の種類別の発電量の割合（2020年度）を示したものです。水力発電にあてはまるものとして正しいものを、次のア～ウから1つ選んで、記号で答えなさい。



[日本国勢図会2022/23より作成]

問7 下線部④について、かつて日本にはたくさんの造船所があり、日本の造船業は世界一の時期がありました。右の表は世界の造船竣工量（2021年）の多い国を並べたものです。表中の1位の国の名を答えなさい。

順位	国名	竣工量 (千総トン)
1	()	26188
2	韓国	19311
3	日本	10776
4	フィリピン	634
5	イタリア	501

[日本国勢図会2022/23より作成]

問8 下線部⑤について、次の表のア～オは日本の米、小麦、大豆、果実、魚介類（食用）の食料自給率（2020年）を示したものです。この中で魚介類（食用）にあてはまるものを、表中のア～オから1つ選んで、記号で答えなさい。

	ア	イ	ウ	エ	オ
自給率 (%)	57	6	15	38	97

[日本国勢図会2022/23より作成]

問9 Dの文中の（ ⑥ ）にあてはまる語句を答えなさい。

問10 下線部⑦について、次の表は路面電車が走っている広島県、愛媛県、熊本県、鹿児島県における路面電車を含む鉄道の旅客輸送量の移り変わりを示しています。広島県にあてはまるものとして正しいものを、次のア～エから1つ選んで、記号で答えなさい。

単位：百万人

県	ア	イ	ウ	エ
1980 年度	43	154	33	44
2019 年度	34	205	38	29

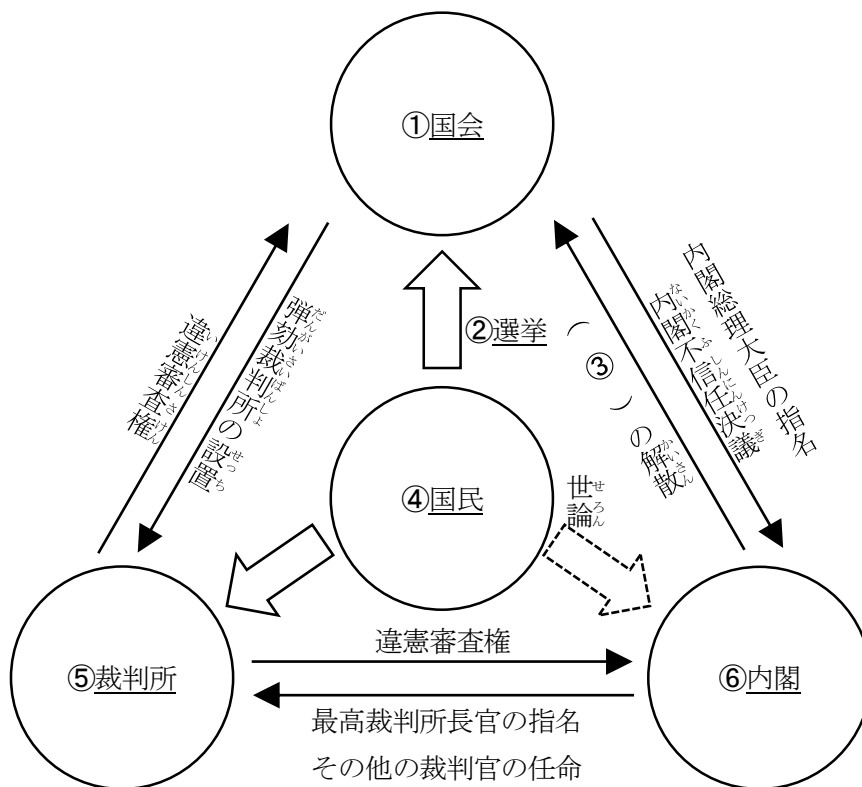
[データでみる県勢 2022 より作成]

問11 下線部⑧について、高齢化とは総人口に占める何歳以上の人口の割合が高くなることですか。算用数字で答えなさい。

問12 Eの文中の(㊹)は、都市部の気温が周辺の地域より高くなる現象を示す語句が入ります。あてはまる語句をカタカナで答えなさい。

問13 下線部⑩について、地球の表面をおおうプレートが動くことにより、大きな地震が起こると言われています。特に駿河湾から南西に四国沖までのびる海底の溝状の地形を何といいますか。解答欄の「南海」に続くように、その地形の名をカタカナ3字で答えなさい。

3 次の図は日本の政治の仕組みについて表しています。図を見て、各問いに答えなさい。



問1 下線部①について、国会の主な仕事として誤っているものを、次のア～エから1つ選んで、記号で答えなさい。

- ア 法律をつくる。
- イ 国の予算を決める。
- ウ 内閣が外国と結んだ条約を承認する。
- エ 天皇の国事行為に助言や承認を与える。

問2 下線部②について、現在の選挙に関して述べた文として正しいものを、次のア～エから1つ選んで、記号で答えなさい。

- ア 納税額や性別に関係なく満20歳以上に選挙権が与えられている。
- イ 性別に関係なく満25歳以上から参議院議員に立候補できる。
- ウ 納税額や性別に関係なく1人1票ずつ平等に与えられる。
- エ 投票用紙には立候補者の名、自分の住所と名を記入する。

問3 (③) にあてはまる語句として正しいものを、次のア～エから1つ選んで、記号で答えなさい。

- ア 貴族院 イ 衆議院 ウ 参議院 エ 衆議院と参議院

問4 下線部④について、国民は日本国憲法において主権者と定められています。主権者である国民（住民）が行えることとして正しいものを、次のア～エから1つ選んで、記号で答えなさい。

- ア 有権者の署名を集めて条例の制定請求を行う。
- イ 内閣の政治や予算の使い方について国政調査を行う。
- ウ 国会が発議した憲法改正案に対して国民審査を行う。
- エ 最高裁判所の裁判官の信任について国民投票を行う。

問5 下線部⑤について、2009年から刑罰が重い犯罪の裁判に限って国民が参加し裁判官と話し合っ

て判決を出す制度が取り入れられました。この制度の名を答えなさい。

問6 下線部⑥について、内閣は省庁を管轄しています。次の文の（ ）にあてはまる省庁として正しいものを、次のア～エから1つ選んで、記号で答えなさい。

ある地方自治体は、ふるさと納税の返礼品の調達費が国の基準値を超える違反をおかしたため、（ ）よりふるさと納税の指定の除外処分を受けました。

- ア 財務省
- イ 国土交通省
- ウ 経済産業省
- エ 総務省

問7 国会、内閣、裁判所が行使している権力の組み合わせとして正しいものを、次のア～エから1つ選んで、記号で答えなさい。

- ア 国会 － 立法権 内閣 － 行政権 裁判所 － 司法権
- イ 国会 － 行政権 内閣 － 立法権 裁判所 － 司法権
- ウ 国会 － 司法権 内閣 － 行政権 裁判所 － 立法権
- エ 国会 － 行政権 内閣 － 司法権 裁判所 － 立法権

問8 図のように、国会、内閣、裁判所は、権力が1か所に集中しない政治の仕組みをとっています。これを何といいますか。漢字4字で答えなさい。