

2 0 2 5 年 度

上宮学園中学校入学考查問題

（ 1 次入試一般学力型午前 ）

社 会

（注意）

- （1）この問題用紙は、「開始」の放送があるまで開いてはいけません。
- （2）問題は□1から□3まであります。試験時間は30分です。
- （3）解答用紙は別に1枚あります。
- （4）解答用紙には、必ず受験番号・名前を記入しなさい。
- （5）「終了」の放送で、筆記用具を置きなさい。

- 1 次のA～Gは、古代から現代までに利用されてきたものの写真や絵です。それぞれの文章を読んで、後の問いに答えなさい。




A



B



C



D



E



F



G

Aは（ ① ）土器です。この土器は、大陸から米づくりが伝わったところから使用されました。収かくされた米は高床倉庫^{たかゆか}に保存されました。静岡県にある（ ② ）では、この時代の水田のあとが発見されました。

問1 文中の（ ① ）にあてはまる語句を答えなさい。

問2 文中の（ ② ）にあてはまる遺跡^{いせき}の名として正しいものを、次のア～エから1つ選んで、記号で答えなさい。

ア 登呂遺跡 イ 三内丸山遺跡 ウ 板付遺跡 エ 吉野ヶ里遺跡

Bは（ ③ ）と呼ばれる貴族の女性の正装^{せいそう}です。この衣装^{いしやう}が着用された時代には、国風文化が栄え、④この時代になかな文字を用いた文学作品が数多くつくられ、和歌や書においても数々の名作がつくられました。

問3 文中の（ ③ ）にあてはまる語句を、漢字3字で答えなさい。

問4 下線部④について、この時代に著^{あらわ}された文学作品として誤っているものを、次のア～エから1つ選んで、記号で答えなさい。

ア 紫式部の「源氏物語」 イ 本居宣長の「古事記伝」
ウ 紀貫之の「土佐日記」 エ 清少納言の「枕草子」

Cは永楽通宝です。この貨幣は、(⑤)によって⑥明との貿易が始まったことで、大量に日本へ輸入されました。これによって貨幣経済が発達し、商業や金融業が栄えるようになりました。

問5 文中の(⑤)にあてはまる人物の名として正しいものを、次のア～エから1つ選んで、記号で答えなさい。

ア 平清盛 イ 源頼朝 ウ 足利義満 エ 織田信長

問6 下線部⑥について、明との貿易について述べた文として正しいものを、次のア～エから1つ選んで、記号で答えなさい。

ア 大輪田泊（現在の神戸港）を整備し、貿易をさかんに行った。

イ 幕府から朱印状を与えられた貿易船が貿易を行った。

ウ 出島に設けられた商館で貿易を行った。

エ 勘合と呼ばれる合い札を用いて貿易を行った。

Dは⑦太閤検地の際に用いられた升です。太閤検地を行った(⑧)の政策により、武士や百姓、町人という身分が区別され、武士が百姓などの身分を支配するしくみが整えられていきました。

問7 下線部⑦について、太閤検地について述べた文として正しいものを、次のア～エから1つ選んで、記号で答えなさい。

ア 検地帳が作成され、全国の土地の面積や収かく高が記入された。

イ 犯罪を予防し、年貢の連帯責任を負わせるため、五人組が設けられた。

ウ 政府が地主から買い取った土地を小作農家に売り渡し、小作農家が土地を持つようになった。

エ 土地所有者は、土地の値段を基準とした税金を納めるようになった。

問8 (⑧)にあてはまる人物の名を答えなさい。

Eは⑨江戸時代に開発された農具である(⑩)です。これ以外にもさまざまな農具が開発・改良され、農業の生産力が高まりました。また、幕府が新田開発を進めたことから、耕地面積は大きく増えました。

問9 下線部⑨について、江戸時代の文化や学問について述べた文として誤っているものを、次のア～エから1つ選んで、記号で答えなさい。

ア 杉田玄白は、オランダ語で書かれた医学書をほん訳した「解体新書」を出版した。

イ 松尾芭蕉は、「東海道五十三次」などの風景画を数多く残した。

ウ 伊能忠敬は、全国各地を測量して日本地図を完成させた。

エ 近松門左衛門は、歌舞伎や人形浄瑠璃の脚本を数多く残した。

問10 文中の(⑩)にあてはまる農具の名として正しいものを、次のア～エから1つ選んで、記号で答えなさい。

ア 千歯こき イ とうみ ウ 千石どおし エ 備中ぐわ

Fは放送が開始されたころのラジオです。ラジオ放送が開始された年に⑪普通選挙法が定められ、選挙権が拡大しました。このころ、⑫女性の地位向上を目指す運動も展開されました。

問11 下線部⑪について、普通選挙法で認められた選挙権として正しいものを、次のア～エから1つ選んで、記号で答えなさい。

ア 20才以上の男子 イ 20才以上の男女

ウ 25才以上の男子 エ 25才以上の男女

問12 下線部⑫について、「元始、女性は実に太陽であった。」と記し、女性の自由と権利を求める運動を行った人物の名として正しいものを、次のア～エから1つ選んで、記号で答えなさい。

ア 津田梅子 イ 与謝野晶子 ウ 平塚らいてう エ 樋口一葉

Gは「三種の神器^{じんぎ}」と呼ばれた電気冷蔵庫、テレビ、電気洗濯機^{せんたくき}です。これらが広まった1950年代半ば以降、およそ20年にわたり（ ⑬ ）と呼ばれる急速な経済発展をとげ、人々の生活は豊かになっていきました。

問13 （ ⑬ ）にあてはまる語句を答えなさい。

2 次のA～Fの文章は、日本の湖やその湖に関係している地域について述べたものです。それぞれの文章を読んで、後の問いに答えなさい。

A 池田湖は火山の噴火によってできた大きなくぼ地に水がたまってできた（ ① ）湖です。この湖の周辺をふくむ一帯には②火山灰が積もってできた台地が広がり、③畜産業やいも類、茶の栽培がさかんです。また、再生可能エネルギーである④火山地帯の蒸気を利用した発電も行われています。

B 宍道湖は県庁所在都市である⑤松江市と出雲市にまたがる湖です。魚種が豊富で、2021年のしじみの収かく量は全国1位でした。2005年には、中海とともに「⑥特に水鳥の生息地として国際的に重要な湿地に関する条約」に登録され、湿地が保護されています。

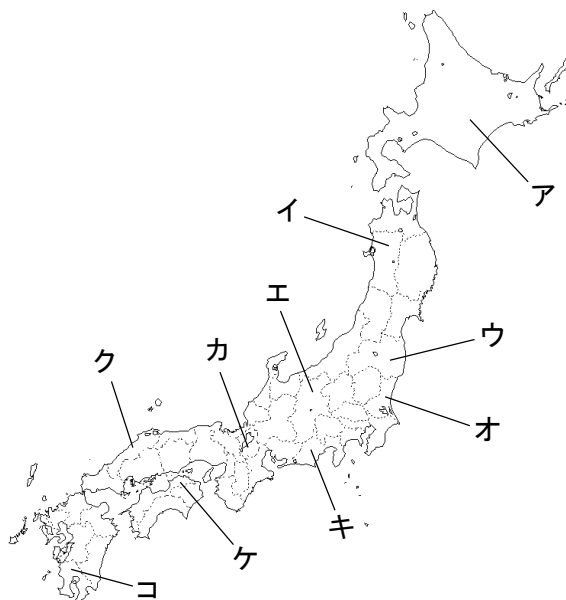
C （ ⑦ ）湖は浜松市と湖西市にまたがる湖で、面積では全国で10番目の広さです。古くからうなぎの養殖地として知られています。この湖の周辺は、温暖な気候と水はけの良い土壌が果実の栽培に適しており、⑧みかんの産地としても知られています。

D 琵琶湖は、日本最大の面積と貯水量をほこる湖で、1700種以上の水生動植物が生息しているとされています。この湖から流れ出た川は、他の川と合流して淀川となり大阪湾に注いでいます。大阪湾沿岸には⑨阪神工業地帯が広がっています。

E 八郎潟は男鹿半島の付け根付近にある湖です。かつては日本で2番目の面積をほこる湖でしたが、第二次世界大戦後に大規模な干拓事業が行われ、現在は大部分が⑩農地となっています。付近には⑪石油備蓄基地があり、日本の石油消費量の約8日分相当を備蓄しています。

F 児島湖は⑫岡山市と⑬玉野市にまたがる人工の湖で、ダム湖をのぞいた人造湖では世界で2番目の面積をほこります。付近には、⑭児島・坂出ルートとも呼ばれる連絡橋があり、対岸を結んでいます。

問1 A～Cの文中の湖が位置する都道府県として正しいものを、次のア～コから選んで、それぞれ記号で答えなさい。



問2 Aの文中の（ ① ）にあてはまる語句をカタカナで答えなさい。

問3 下線部②について、この台地の名として正しいものを、次のア～エから1つ選んで、記号で答えなさい。

ア 牧ノ原台地 イ 根釧台地 ウ 武蔵野台地 エ シラス台地

問4 下線部③について、次の表は乳用牛、肉用牛、ぶた、肉用若鶏^{わかしり}の飼育数上位3位までの都道府県（2022年）を示したものです。Aの文中の池田湖が位置する都道府県にあてはまるものとして正しいものを、次のア～ウから1つ選んで、記号で答えなさい。

	乳用牛	肉用牛	ぶた	肉用若鶏
1位	ア	ア	イ	イ
2位	栃木県	イ	ウ	ウ
3位	熊本県	ウ	ア	岩手県

[日本国勢図会^{ずえ}2023/24より作成]

問5 下線部④について、この発電の施設^{しせつ}を示した写真として正しいものを、次のア～エから1つ選んで、記号で答えなさい。

ア



イ



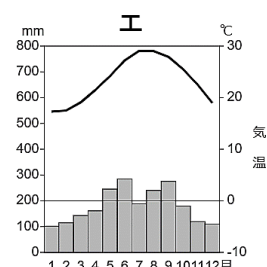
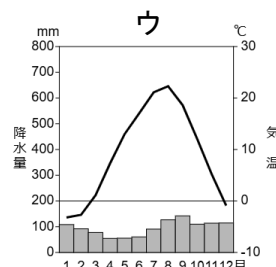
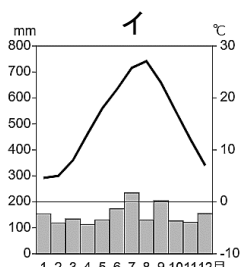
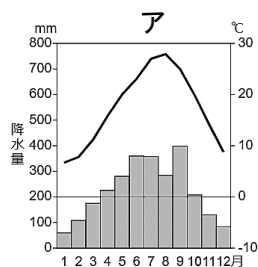
ウ



エ



問6 下線部⑤について、次のグラフは松江市、札幌市、高知市、那覇市の雨温図を示しています。松江市にあてはまるものとして正しいものを、次のア～エから1つ選んで、記号で答えなさい。



[気象庁ホームページより作成]

問7 下線部⑥について、この条約の通称として正しいものを、次のア～エから1つ選んで、記号で答えなさい。

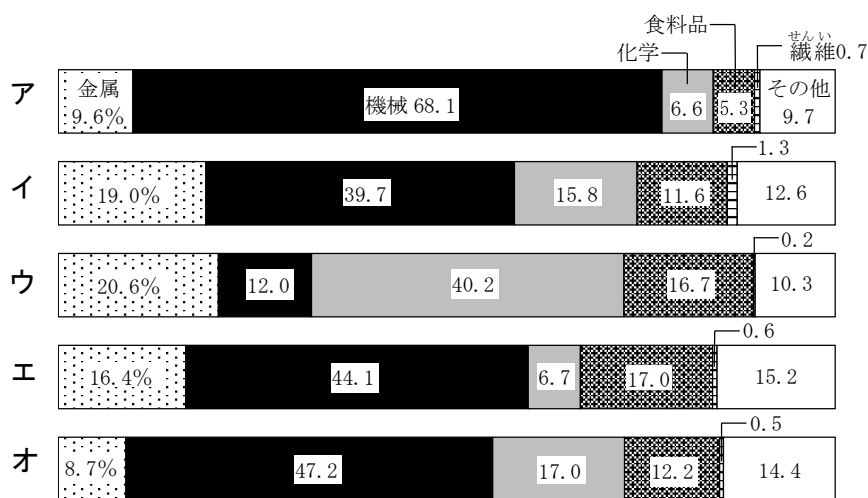
ア ウィーン条約 イ ワシントン条約 ウ ジュネーブ条約 エ ラムサール条約

問8 Cの文中の（ ⑦ ）にあてはまる湖の名を答えなさい。

問9 下線部⑧について、国内のみかん生産量が1位と2位（2023年農林水産省）の都道府県の組み合わせとして正しいものを、次のア～エから1つ選んで、記号で答えなさい。

ア 1位－和歌山県 2位－愛媛県 イ 1位－青森県 2位－長野県
ウ 1位－愛媛県 2位－和歌山県 エ 1位－長野県 2位－青森県

問10 下線部⑨について、次のグラフは、阪神工業地帯をふくむ三大工業地帯と北九州工業地域、京葉工業地域の製造品出荷額の割合（2020年）を示したものです。阪神工業地帯にあてはまるものとして正しいものを、次のア～オから1つ選んで、記号で答えなさい。



[日本国勢図会2023/24より作成]

問11 下線部⑩について、八郎潟の干拓は湖を水田にするために計画されましたが、食生活の変化などによって米があまるようになり、現在の干拓地は大部分が畑として利用されています。このように、それまで栽培していた作物の種類を他の作物に変えることを何といいますか、答えなさい。

問12 下線部⑪について、次の表は、日本が石油を輸入している上位4か国（2022年）を示したものです。表中の1位の国の名として正しいものを、下のア～エから1つ選んで、記号で答えなさい。

	国名	輸入量（千 kL）
1 位	（ ）	60,375
2 位	アラブ首長国連邦	60,197
3 位	クウェート	12,824
4 位	カタール	11,576

[日本国勢図会2023/24より作成]

ア インドネシア イ イラク ウ サウジアラビア エ イラン

問13 下線部⑫について、岡山市について述べた文として正しいものを、次のア～エから1つ選んで、記号で答えなさい。

- ア 「杜^{もり}の都」とも呼ばれ、この地方で最大の人口をほこる政令指定都市である。
- イ かつて「百万石の城下町」と呼ばれ、九谷焼や金箔^{きんぱく}などの伝統的工芸品が有名である。
- ウ 「晴れの国」と呼ばれ、日本三大庭園の一つに数えられる後樂園がある。
- エ 太田川河口に広がる都市で、戦争の悲惨^{ひはん}さを伝える建物が世界遺産となっている。

問14 下線部⑬について、玉野市は瀬戸内工業地域に属する都市の一つです。瀬戸内工業地域の説明として正しいものを、次のア～エから1つ選んで、記号で答えなさい。

- ア かつて砂丘^{さきゅう}海岸に人工式のほりこみ港をつくり、発展した。石油化学工業や鉄鋼業がさかんである。
- イ 豊かな自然を生かし、地元でとれる農水産物を利用した食品加工業や製紙・パルプ工業、水産加工業がさかんである。
- ウ 2つの工業地帯にはさまれ、新幹線や高速道路などが通っており、交通の便がよいことから発展した。オートバイやパルプの製造、水産加工業がさかんである。
- エ かつての塩田^{あとち}の跡地を利用して工業用地を得た。海上交通が発達していることを利用し、石油化学工業の割合が高いという特ちょうがある。

問15 下線部⑭について、この橋の名として正しいものを、次のア～エから1つ選んで、記号で答えなさい。

- ア 瀬戸大橋 イ 明石海峡大橋 ウ 大鳴門橋 エ 関門橋

- 3 次の表は、2024年の3月から11月のできごとを示したものです。表を見て、後の問いに答えなさい。

表

月	できごと
3月	① ^{べにこうじ} 紅麴の成分をふくんだサプリメントなどの ^{せつしゆ} 摂取による ^{ひがい} 健康被害があったとして、製薬会社は5つの製品を自主回収すると発表した。
4月	ニューヨーク外国 ^{かわせ} 為替市場で円安が一段と加速し、円相場は1ドル＝158円台まで下落した。1990年5月以来、およそ34年ぶりの② <u>円安ドル高</u> 水準となった。
7月	③ ^{ねんれい} 年齢や ^{こくせき} 国籍を問わず多くの人が利用しやすいように、額面のアラビア数字を大きくした新たな一万円、五千円、千円の紙幣が発行された。
8月	フランスの（ ④ ）で ^{かいさい} 開催された第33回オリンピック競技大会が閉幕した。
10月	⑤ <u>衆議院議員総選挙</u> が行われ、小選挙区制で289名が、（ ⑥ ）代表制で176名が当選した。
11月	アメリカ大統領選挙が行われ、（ ⑦ ）が次期大統領に選ばれた。

- 問1 下線部①について、国民の健康や医薬品・食品の安全管理に関する仕事を行っている省の名として正しいものを、次のア～エから1つ選んで、記号で答えなさい。

ア 経済産業省 イ 厚生労働省 ウ 環境省 エ 総務省

- 問2 下線部②について、円安ドル高について述べた文として正しいものを、次のア～エから1つ選んで、記号で答えなさい。

ア 円の価値がドルに比べて高い状態であるため、アメリカからの輸入に不利である。
 イ 円の価値がドルに比べて高い状態であるため、アメリカへの輸出に不利である。
 ウ 円の価値がドルに比べて低い状態であるため、アメリカからの輸入に不利である。
 エ 円の価値がドルに比べて低い状態であるため、アメリカへの輸出に不利である。

- 問3 下線部③について、障がいの有無、年齢や性別、言葉のちがいなどにかかわらず、だれにとってもわかりやすく、使いやすいことを目指した建築・製品・情報などのデザインを何といいますか、答えなさい。

- 問4 表の文中の（ ④ ）にあてはまる都市の名を答えなさい。

- 問5 下線部⑤について、衆議院議員総選挙に立候補できる年齢と、選挙権を与えられる年齢の組み合わせとして正しいものを、次のア～エから1つ選んで、記号で答えなさい。

ア 立候補－25才以上 選挙権－18才以上 イ 立候補－30才以上 選挙権－18才以上
 ウ 立候補－25才以上 選挙権－20才以上 エ 立候補－30才以上 選挙権－20才以上

- 問6 表の文中の（ ⑥ ）にあてはまる語句を、漢字2字で答えなさい。

問7 表の文中の（ ㉦ ）にあてはまる人物の名と、その人物の写真の組み合わせとして正しいものを、下のア～エから1つ選んで、記号で答えなさい。

X



Y



ア カマラ・ハリスーX

イ ドナルド・トランプーX

ウ カマラ・ハリスーY

エ ドナルド・トランプーY