

2 0 1 9 年 度

上宮学園中学校入学考查問題

(1 次 一 般 学 力 型)

社 会

(注意)

- (1) この問題用紙は、「開始」の放送があるまで開いてはいけません。
- (2) 問題は□1□から□3□まであります。試験時間は30分です。
- (3) 解答用紙は別に1枚あります。
- (4) 解答用紙には、必ず受験番号・名前を記入しなさい。
- (5) 「終了」の放送で、筆記用具を置きなさい。

1

次のA～Fは、日本の歴史に関係の深い外国人について述べたものです。それぞれの文章を読んで、各問いに答えなさい。

A この人物は、日本の朝廷の招きを受けて、中国から日本へ来ました。そして日本に正式な仏教を伝え唐招提寺を建てました。

問1 この人物の名を答えなさい。

問2 この人物に聖武天皇は受戒をうけました。聖武天皇の遺品が多く収められている建築物の写真として正しいものを、次のア～エから1つ選んで、記号で答えなさい。

ア



イ



ウ



エ



B この人物は、①明治政府に招かれたアメリカの動物学者です。彼は、大学で動物学を教えていた時期に、②大森貝塚を発見しました。

問3 この人物の名を答えなさい。

問4 下線部①について、明治政府が行った近代化政策として正しいものを、次のア～エから1つ選んで、記号で答えなさい。

ア 収入を安定させるために年貢の率を一定にしました。

イ すべての男女に兵役を課す徴兵令をだしました。

ウ 国の費用で外国から機械を買い、製糸場をつくりました。

エ フランスの憲法をもとにして、憲法をつくりました。

問5 下線部②について、この貝塚はある時代を代表する遺跡です。この時代の日本の様子を示した文として正しいものを、次のア～エから1つ選び、記号で答えなさい。

ア 大陸から来た渡来人が、天皇の墓である古墳をつくる技術を伝えました。

イ 縄文土器を使って食べ物を煮たり、保存したりしました。

ウ 大陸からナウマンゾウを追って、多くの人々が日本に来ました。

エ 小さな国がいくつもできて、青銅器の武器を使用して争いました。

C この人物は、モンゴルを統一し、ユーラシア大陸の大半を支配しました。また、③その孫は中国を従え、④日本にも攻めてきました。

問6 この人物の名を答えなさい。

問7 下線部③について、その孫が中国にたてた国の名として正しいものを、次のア～エから1つ選んで、記号で答えなさい。

ア 元 イ 唐 ウ 明 エ 清

問8 下線部④について、この頃の日本の様子を示した文として正しいものを、次のア～エから1つ選んで、記号で答えなさい。

ア 天皇とつながった藤原一族が政治を行っていました。

イ 執権の北条氏が政治の実権をにぎっていました。

ウ 京都で11年にわたり応仁の乱がおこりました。

エ 豊臣秀吉が検地や刀狩を行いました。

D この人物は、⑤第二次世界大戦後、アメリカを中心とする連合軍総司令部の長官として日本に来ました。彼は、日本の民主化をすすめるためにさまざまな改革を行いました。

問9 この人物の名を答えなさい。

問10 下線部⑤について、戦後日本は世界の48カ国と平和条約を結びました。これと同時に行われたこととして正しいものを、次のア～エから1つ選んで、記号で答えなさい。

- ア 日本に沖縄が返されました。
イ 日本は国際連合に加盟しました。
ウ 日本はソ連と国交を結びました。
エ 日本はアメリカと日米安全保障条約を結びました。

E この人物は、()人の宣教師で、キリスト教を広めるために日本に来ました。はじめに鹿児島に上陸し、ついで⑥平戸や山口などでも布教しました。


問11 この人物の名を答えなさい。

問12 ()にあてはまる国の名として正しいものを、次のア～エから1つ選んで、記号で答えなさい。

- ア アメリカ イ ドイツ ウ イギリス エ スペイン

問13 下線部⑥について、平戸や長崎にある潜伏キリシタンの関連遺産が、2018年に世界文化遺産に登録されました。その遺産の写真として正しいものを、次のア～エから1つ選んで、記号で答えなさい。

ア イ ウ エ



F この人物は、浦賀に来航し、()大統領の手紙を幕府にわたし、開国を要求しました。その結果、幕府は⑦鎖国をやめ、開国しました。

問14 ()にあてはまる国の名として正しいものを、次のア～エから1つ選んで、記号で答えなさい。

- ア アメリカ イ イギリス ウ スペイン エ オランダ

問15 下線部⑦について、次の(あ)～(え)は鎖国と関係の深い出来事です。年代の古い順にならべたものとして正しいものを、下のア～エから1つ選んで、記号で答えなさい。

- (あ) 日本人の帰国を禁止する。 (い) オランダ人の商館を出島に移す。
(う) スペイン人の来航を禁止する。 (え) キリスト教を禁止する。

- ア (う) → (え) → (あ) → (い) イ (え) → (う) → (あ) → (い)
ウ (う) → (い) → (え) → (あ) エ (え) → (い) → (う) → (あ)

次のA～Dは、日本のある都道府県の産業の特徴などについて述べたものです。それぞれの文章を読んで、各問いに答えなさい。

A 江戸時代から太平洋戦争後まで塩田で栄えていた浜を埋め立て、工業団地とした結果、1950年代には川崎市、四日市市などとともに、日本初の〔 あ 〕が建設され、日本の化学工業の基礎を築きました。そのほか、中部の沿岸部では、造船業やタオル産業も盛んに行われています。また、魚の養殖業も盛んに行われており、ハマチやタイの養殖では日本で一番多い漁獲量を誇っている都道府県でもあります。

B 太平洋戦争以前は養蚕業が盛んでしたが、きれいな水や空気があることから、戦後にはカメラ・〔 い 〕・オルゴールなどの精密機械工業が発達しました。近年は、これらの技術にもとづいた、プリンター・パソコンなどの情報技術産業が発達しています。また、スキー場が日本で一番多い都道府県でもあります。

C 北東部では化学工業が盛んで、空港周辺においては近年、半導体・コンピューター・ソーラーパネルなどの電子部品工業や精密機械工業が発達しています。これらの産業は日本の主要な産業で、この地域を含めて〔 う 〕と呼ばれています。また、平野部では、ビニールハウスを利用した野菜の栽培が盛んな都道府県でもあります。

D 西部では、周辺の豊かな森林資源を利用した楽器製造工業が行われてきました。また、太平洋戦争後より輸送機械工業や電気機械工業が発達しています。東部では、森林資源と豊富な水を利用してパルプ工業や金属工業などが盛んに行われています。また、「〔 え 〕－信仰の対象と芸術の源泉」として世界文化遺産に登録されている地域がある都道府県でもあります。

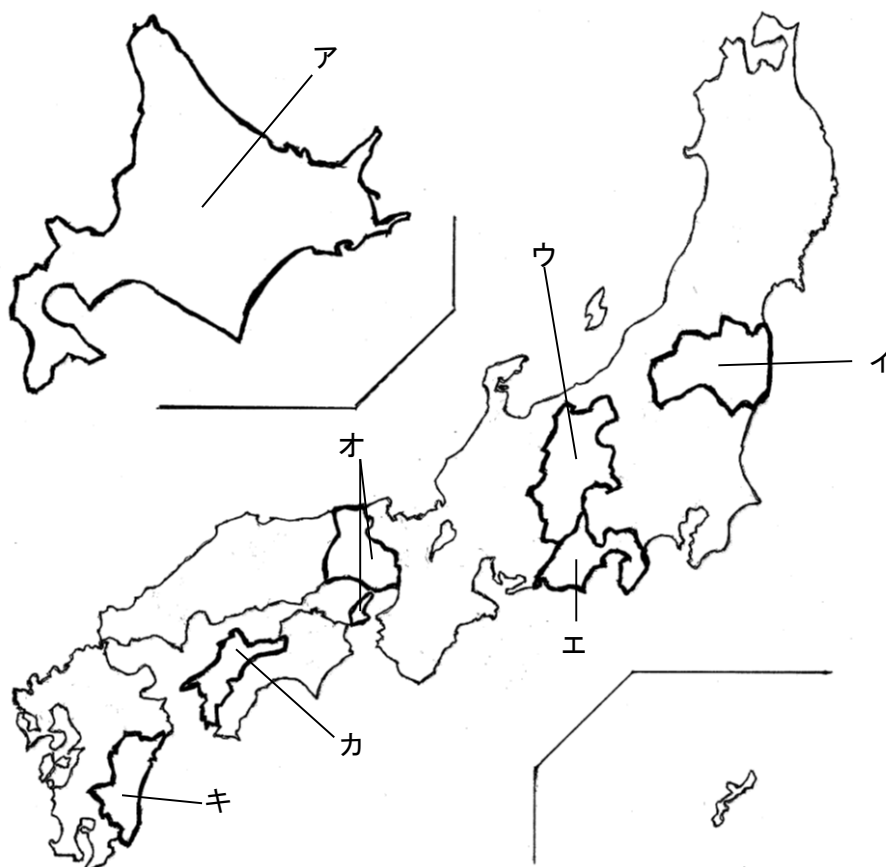
問1 〔 あ 〕～〔 え 〕にあてはまる語句として正しいものを、次のア～ケから選んで、それぞれ記号で答えなさい。

ア 製鉄所 イ シリコンアイランド ウ 紀伊山地 エ 時計 オ 自動車
カ 富士山 キ シリコンバレー ク 家庭用電気機械 ケ コンビナート

問2 Cの文中の下線部のような栽培方法を何というか答えなさい。

問3 Dの文の都道府県にある工業地域の名を答えなさい。

問4 A～Dの都道府県を、次の地図中のア～キから選んで、それぞれ記号で答えなさい。

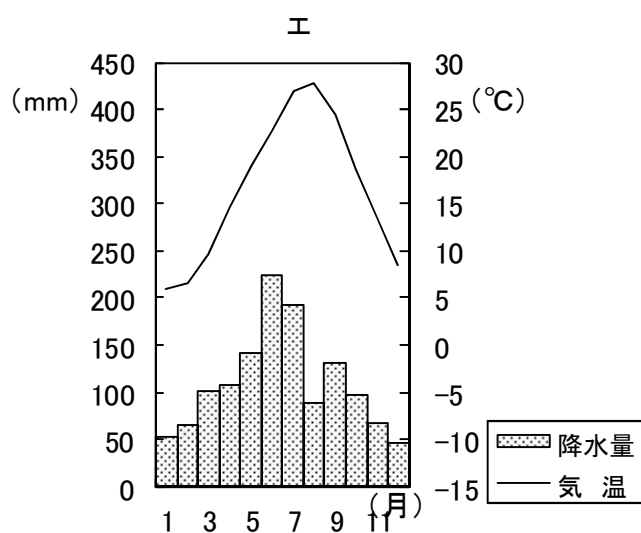
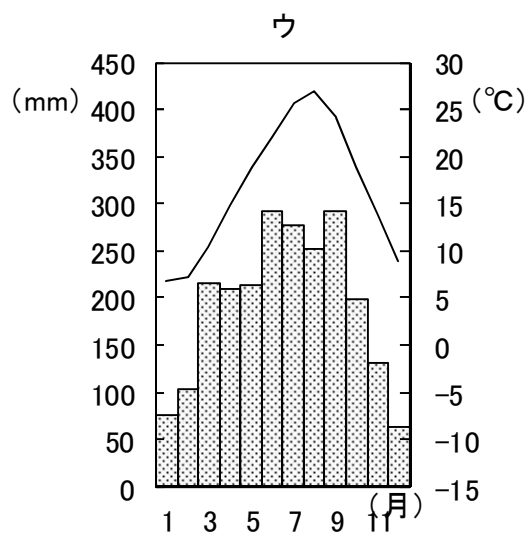
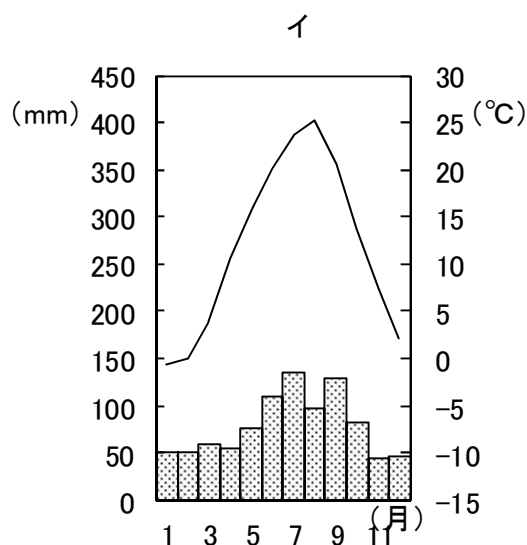
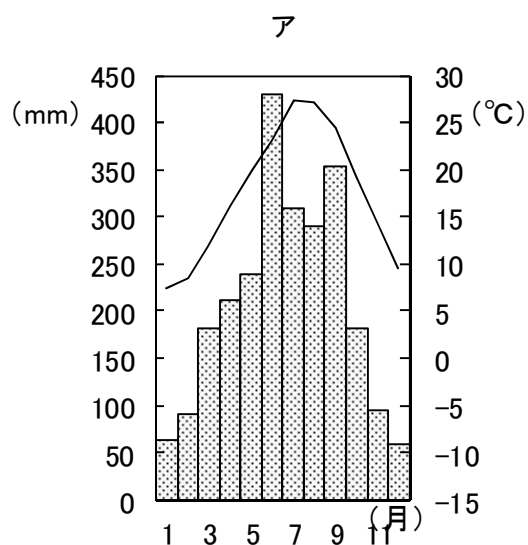


問5 次の表は、都道府県別の農産物・畜産物の収穫量・飼育頭数を表したものです。また、表中の①～④はA～Dの都道府県のいずれかを示しています。表中の①～④にあてはまる都道府県をA～Dから選んで、それぞれ記号で答えなさい。

農産物・ 畜産物 都道府県	レタス 収穫量 (千トン)	きゅうり 収穫量 (千トン)	みかん 収穫量 (千トン)	りんご 収穫量 (千トン)	茶 収穫量 (百トン)	豚 飼育頭数 (千頭)	ブロイラー 出荷羽数 (万羽)
鹿児島	5	8	12	...	1207	1263	13209
①	2	61	11	...	179	835	13150
②	21	4	101	...	1415	111	649
③	192	15	...	157	...	74	296
青森	2	5	...	470	...	362	4165
和歌山	1	3	160	2	200
④	3	9	121	200	454

[地理統計要覧 2018年版(二宮書店)より作成]

問6 A～Dの都道府県の都道府県庁所在地にあてはまる雨温図として正しいものを、次のア～エから選んで、それぞれ記号で答えなさい。





[地理統計要覧 2018年版(二宮書店)より作成]

次のA～Cは、2019年に予定されていることについて述べたものです。それぞれの文章を読んで、各問いに答えなさい。

A 3月29日に①イギリスが②EUから離脱^{りだつ}することになっています。これはイギリスの経済負担が大きいことや移民の増加問題が原因と考えられています。しかし、これが実現するとEUだけでなく世界の経済にも大きな影響^{えいきょう}を与え^{あた}ると考えられています。

問1 下線部①について、イギリスの国旗として正しいものを、次のア～エから1つ選んで、記号で答えなさい。



問2 下線部②について、EUの本部がおかれている都市の名として正しいものを、次のア～エから1つ選んで、記号で答えなさい。

ア ニューヨーク イ ブリュッセル ウ リオデジャネイロ エ シドニー

B 6月28日から③大阪でG20サミット（金融・世界経済に関する首脳会合）が開催^{かいかい}されることになっています。G20とは、④G7に新興国を加えた20か国のことを指しています。この会議は、⑤2008年に起きた世界経済・金融危機に対処するために行われ、毎年開催されています。

問3 下線部③について、大阪では2025年5月3日～11月3日にかけて国際的な催し^{もよお}が開かれます。「いのち輝^{かがや}く未来社会のデザイン」をテーマとして開かれるこの催し^{もよお}の名を漢字5字で答えなさい。

問4 下線部④について、G7に含まれない国を、次のア～エから1つ選んで、記号で答えなさい。

ア アメリカ イ ドイツ ウ ロシア エ イギリス

問5 下線部⑤について、この原因となった出来事として正しいものを、次のア～エから1つ選んで、記号で答えなさい。

ア ドルショック イ オイルショック
ウ リーマンショック エ ゴールドマンショック

C 10月1日から⑥消費税が⑦10%に増税されることになっています。増税によって安定した⑧社会保障制度^{いじ}を維持^{てい}することを目的としています。しかし、増税によって消費が減少し、日本の経済が停滞^{ていたい}することが心配されています。

問6 下線部⑥について、消費税を説明した文として誤っているものを、次のア～エから1つ選んで、記号で答えなさい。

ア ものやサービスを購入^{こうにゆう}した際にかかる税金です。
イ 国税の一つで間接税です。
ウ 子どもから高齢者まで幅広い層から徴収^{こうれいしや}することができます。
エ 累進課税^{るいしんかぜい}の仕組みがとられています。

問7 下線部⑦について、現在（2019年1月）の消費税率は何%か答えなさい。

問8 下線部⑧について、わが国の社会保障制度は「健康で文化的な最低限度の生活を営む権利」にもとづいてつくられています。日本国憲法第25条で定められたこの権利を何というか答えなさい。