


2022年度  
上宮学園中学校入学考査問題  
(1次入試 一般学力 午前)

社 会

(注意)

- (1) この問題用紙は、「開始」の放送があるまで開いてはいけません。
- (2) 問題は□1から□3まであります。試験時間は30分です。
- (3) 解答用紙は別に1枚あります。
- (4) 解答用紙には、必ず受験番号・名前を記入下さい。
- (5) 「終了」の放送で、筆記用具を置き下さい。

1 次の写真A～Gは、日本の歴史に関係の深い人物です。その人物について述べた、それぞれの文章を読んで、各問いに答えなさい。



写真A



写真B



写真C



写真D



写真E



写真F



写真G

写真Aはアメリカ人のモースです。彼は、縄文時代の人々が食料として食べた貝殻や動物の骨などを捨ててできた遺跡を東京で発見しました。①このような遺跡は、日本のいろいろな場所で発見されています。

問1 下線部①について、食べ物などを捨ててできた遺跡を何といいますか。漢字2字で答えなさい。

写真Bは②聖徳太子です。彼は、天皇の政治を助ける官職である（あ）に就きました。そして当時、大きな勢力を持っていた蘇我氏と共に天皇中心の新しい国づくりに取りかかりました。また、③仏教の教えを人々に広めようと寺院を建立しました。

問2 下線部②について、聖徳太子がおこなったこととしてあやまっているものを、次のア～エから1つ選んで、記号で答えなさい。

- ア 家柄に関係なく、能力で役人に取り立てるために冠位十二階を定めました。
- イ 607年、使者として小野妹子を派遣し、皇帝に国書を送りました。
- ウ 政治を行う役人の心得を示すために十七条の憲法を定めました。
- エ 進んだ制度や文化などを取り入れるために遣唐使を派遣しました。

問3 （あ）にあてはまる官職として正しいものを、次のア～エから1つ選んで、記号で答えなさい。

- ア 管領
- イ 摂政
- ウ 関白
- エ 執権

問4 下線部③について、聖徳太子が建立した寺院で、現存する世界最古の木造建築として日本で最初に世界文化遺産に登録された寺院の名を答えなさい。

写真Cは僧の源信です。彼は、平安時代に阿弥陀仏に念仏を唱えれば極楽浄土に往生できるという教えを広めていきました。その教えは、貴族や庶民の間にも受け入れられていき、世の中に対する不安から極楽浄土に対する憧れが強まりました。そして、貴族や天皇によって④多くの阿弥陀堂が造られました。

問5 下線部④について、奥州藤原氏の藤原清衡が岩手県平泉に建立した阿弥陀堂として正しいものを、次のア～エから1つ選んで、記号で答えなさい。

ア 日光東照宮      イ 中尊寺金色堂      ウ 鹿苑寺金閣      エ 平等院鳳凰堂

写真Dは源頼朝です。彼は、平治の乱に敗れて（い）に流されていましたが、北条氏や東国の武士たちと共に平氏を倒そうと兵をあげました。その後、⑤頼朝の弟の義経たちに率いられた源氏軍は、平氏との戦いに次々と勝利し、平氏を西国に追い詰め、ついに壇ノ浦で滅ぼしました。

問6 （い）にあてはまる地名として正しいものを、次のア～エから1つ選んで、記号で答えなさい。

ア 土佐      イ 佐渡      ウ 伊豆      エ 隠岐

問7 下線部⑤について、平氏滅亡までの戦いの順番として正しいものを、次のア～エから1つ選んで、記号で答えなさい。

ア 富士川の戦い → 一の谷の戦い → 屋島の戦い → 壇ノ浦の戦い  
イ 富士川の戦い → 屋島の戦い → 一の谷の戦い → 壇ノ浦の戦い  
ウ 一の谷の戦い → 富士川の戦い → 屋島の戦い → 壇ノ浦の戦い  
エ 一の谷の戦い → 屋島の戦い → 富士川の戦い → 壇ノ浦の戦い

写真Eは（う）です。彼は1543年、⑥ヨーロッパ人を乗せた船が（え）に流れ着いたときに伝えられた鉄砲を1575年の長篠の戦いに使用し、戦国武将の武田勝頼を破りました。その結果、鉄砲は堺や国友などで大量につくられるようになりました。

問8 （う）にあてはまる人物の名を、次のア～エから1つ選んで、記号で答えなさい。

ア 豊臣秀吉      イ 石田三成      ウ 織田信長      エ 徳川家康

問9 下線部⑥について、このヨーロッパ人とは、どこの国の人ですか。正しい国の名を、次のア～エから1つ選んで、記号で答えなさい。

ア スペイン      イ イギリス      ウ イタリア      エ ポルトガル

問10 （え）にあてはまる島の名として正しいものを、次のア～エから1つ選んで、記号で答えなさい。

ア 種子島      イ 出島      ウ 屋久島      エ 与那国島

写真Fは桂太郎です。彼は1904年、首相のときに⑦日露戦争が起こり、日本は激しい戦いの末に、勝利をおさめました。日本海海戦では（お）の指揮する艦隊がロシアのバルチック艦隊を破りました。しかし、日本は次第に兵力や物資をつぎ込む力がなくなり、ロシアも国内で革命が起こったため、両国は講和条約を結びました。

問 11 下線部⑦について、戦地の弟を思い『君、死にたまふことなかれ』という詩を詠んだ人物の名を答えなさい。

問 12 （お）にあてはまる人物の名として正しいものを、次のア～エから1つ選んで、記号で答えなさい。

ア 乃木希典            イ 東条英機            ウ 犬養毅            エ 東郷平八郎

写真Gは吉田茂です。彼は、⑧1951年にアメリカで開かれた講和会議でソ連や⑨中国とは条約を結ぶことはできませんでしたが、他の48カ国と平和条約を結び、翌年に占領が終わり、主権を回復することができました。また、1951年に日米安全保障条約も結ばれ、（か）はアメリカに占領されたままでしたが、1972年に日本に返還されました。

問 13 下線部⑧について、この会議が開かれたアメリカの都市の名として正しいものを、次のア～エから1つ選んで、記号で答えなさい。

ア ポーツマス        イ ニューヨーク        ウ ワシントン        エ サンフランシスコ

問 14 下線部⑨について、その後、1978年に中国との間で結ばれた条約の名を答えなさい。

問 15 （か）にあてはまる地域の名を答えなさい。

2 次のA～Eの文章は、日本国内で市の名前が漢字1字で表される10の市(2021年12月現在)のうち、5つの市を示しています。それぞれの文章を読んで、各問いに答えなさい。

A 旭市は九十九里浜の北部に位置します。農業がさかんで、県内にある市町村の中では1位、全国の市町村の中でも6位の①農業産出額(2018年)をほこります。隣接する都市の1つに日本有数の水あげ量をほこる漁港を持つ②銚子市があります。

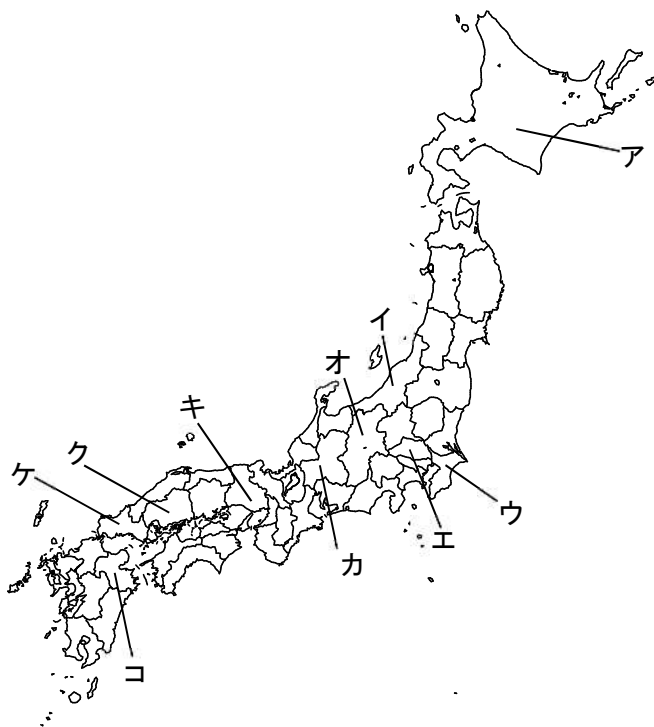
B 呉市は③瀬戸内海に面しています。明治時代に軍港が置かれました。海軍時代の技術は現在にも引き継がれ、造船業や④鉄鋼業がさかんです。また、海上自衛隊の拠点にもなっており、「大和ミュージアム」や「てつのくじら館」といった軍事・防衛関連の展示施設が観光資源になっています。

C 萩市は長州藩の城下町として栄えていました。城は海に突出した指月山のふもとにあり、城下町は阿武川が橋本川と松本川に分流してできた(あ)に形成され、現在も市の中心部となっています。隣接する都市の1つに⑤秋吉台で知られる美祢市があります。

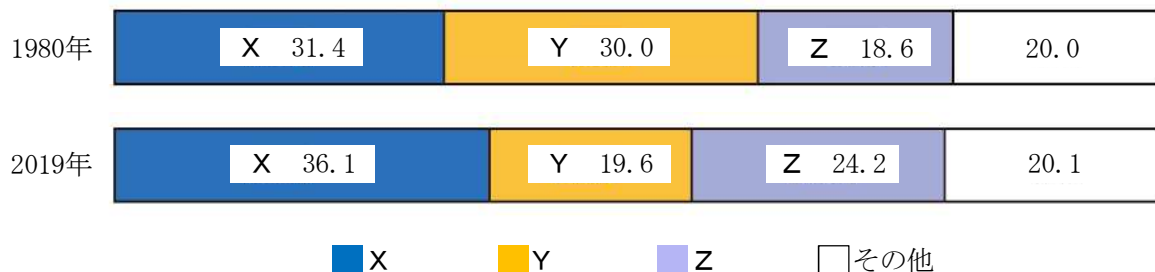
D 燕市の近辺は古くから港町として栄えました。港町といっても、⑥日本海には面しておらず、信濃川の港町でした。三条市との境に(い)新幹線の駅があり、現在も交通の要所です。洋食器の生産がさかんで、この都市がある都道府県の金属洋食器の出荷額は全国の95%(2018年)を占めます。

E 蕨市は日本の市の中で最も面積が小さく、東京特別区を除けば⑦人口密度が最も高い市として有名です。ひらがなで表される県庁所在地がある市に隣接しており、かつては街道の宿場町として栄えました。現在では⑧通勤・通学に便利がよく、住宅都市として発展しています。

問1 A～Eの文が示している市が位置する都道府県を、次のア～コから選んで、それぞれ記号で答えなさい。



問2 下線部①について、次のグラフは1980年と2018年における日本の農業産出額の割合を示しています。X～Zにあてはまる農産物の組み合わせとして正しいものを、次のア～エから1つ選んで、記号で答えなさい。



(単位：%) [日本国勢図会2020/21より作成]

- ア X－野菜 Y－畜産 Z－米      イ X－畜産 Y－米 Z－野菜  
 ウ X－米 Y－畜産 Z－野菜      エ X－野菜 Y－米 Z－畜産

問3 下線部②について、この市がある半島の沖合では、冬になると暖流と寒流が交わります。このような海域の名を答えなさい。

問4 下線部③について、瀬戸内海沿岸の気候について述べた文として正しいものを、次のア～エから1つ選んで、記号で答えなさい。

- ア 南東の季節風の影響を受けるため、夏の降水量は多く、冬は乾燥した晴天の日が少ない。  
 イ 北西の季節風の影響を受けるため、冬の降水量は多く、夏は乾燥した晴天の日が多い。  
 ウ 月別平均気温が氷点下になる月はなく、季節風の影響が少ないため、年中降水量が少ない。  
 エ 月別平均気温が氷点下になる月があり、季節風の影響が多いため、年中降水量が多い。

問5 下線部④について、次の表は鉄鋼業、せんい工業、印刷・印刷関連業、パルプ・紙・紙加工品のいずれかの都道府県別出荷額上位5位(2018年)を示しています。鉄鋼業にあてはまるものを、次のア～エから1つ選んで、記号で答えなさい。

順位	ア	イ	ウ	エ
1	愛知県	愛知県	静岡県	東京都
2	大阪府	大阪府	愛媛県	埼玉県
3	千葉県	福井県	埼玉県	大阪府
4	兵庫県	岡山県	愛知県	愛知県
5	広島県	滋賀県	北海道	京都府

[データで見る県勢2021より作成]

問6 右の地形図は萩市の中心部のものです。この地形図を参考にして、(あ)にあてはまる語句を答えなさい。



問7 下線部⑤について、秋吉台は石灰岩で作られた台地が、雨水や地下水などでとかされてできた地形として有名です。このような地形の名をカタカナ4字で答えなさい。

問8 下線部⑥について、日本海を流れる暖流の名を答えなさい。

問9 (い)にあてはまる語句を答えなさい。

問10 下線部⑦について、都道府県別で人口密度が最も高いのは東京都です。東京都以下、2位と3位(2019年)の都道府県を示しているものとして正しいものを、次のア～エから1つ選んで、記号で答えなさい。

順位	ア	イ	ウ	エ
2	大阪府	愛知県	神奈川県	大阪府
3	神奈川県	大阪府	愛知県	愛知県

[データで見る県勢 2021 より作成]

問11 下線部⑧について、下の表は関西の通勤・通学圏である大阪府、兵庫県、奈良県、和歌山県の昼夜間人口比率(住んでいる人数に対する昼間の人数の割合)(2015年)を示しています。奈良県にあてはまるものを、次のア～エから1つ選んで、記号で答えなさい。

	昼夜間人口比率
ア	104.4
イ	98.2
ウ	95.7
エ	90.0

[データで見る県勢 2021 より作成]

3 次の表は、2021年の1月から11月におこった出来事を示したものです。表を見て、各問いに答えなさい。

表

月 日	出 来 事
1月20日	①ジョー・バイデン氏がアメリカ合衆国大統領に就任した。
3月26日	令和3年度②予算が国会において成立した。
6月11日	③第47回先進国首脳会議[サミット、G7]が開催された。
7月9日	④南スーダン共和国が建国10周年を迎えた。
7月26日	⑤国連教育科学文化機関が「奄美大島、徳之島、沖縄島北部および西表島」を世界自然遺産に登録した。
7月27日	国連教育科学文化機関が「北海道・北東北の縄文遺産群」を世界文化遺産に登録した。
10月31日	⑥第49回衆議院議員総選挙が実施された。
11月3日	⑦日本国憲法公布後75周年を迎えた。

問1 下線部①について、彼は大統領に就任した翌日、前政権が離脱した地球温暖化対策の国際的枠組みの復帰の手続きに入り翌月の2月19日、正式に復帰を果たしました。この復帰した地球温暖化対策の国際的枠組みの名として正しいものを、次のア～エから1つ選んで、記号で答えなさい。

ア 京都議定書      イ シェンゲン協定      ウ パリ協定      エ マーストリヒト条約

問2 下線部②について、国民が納めている税金により国が運営されています。税金のうち家の人が働いて得た収入の中から直接国に納める税として正しいものを、次のア～エから1つ選んで、記号で答えなさい。

ア 消費税      イ 所得税      ウ 固定資産税      エ 住民税

問3 下線部③について、この会議が開催された国として正しいものを、次のア～エから1つ選んで、記号で答えなさい。

ア 日本      イ ドイツ      ウ フランス      エ イギリス

問4 下線部④について、この国は独立後も国内紛争が繰り返された影響で、貧困、食糧難、政情不安が続き、医療システムも未整備です。このような世界で最も新しい国において、独立後より活動を続けている「国境なき医師団」のような組織の名として正しいものを、次のア～エから1つ選んで、記号で答えなさい。

ア NGO      イ NPO      ウ WHO      エ IMF

問5 下線部⑤について、この他の国連の組織の中で、国際紛争解決のため、経済・外交・軍事制裁など最も強い権限を持っている機関の名を漢字7字で答えなさい。

問6 下線部⑥について、衆議院議員に立候補できる年齢と衆議院議員の任期の組み合わせとして正しいものを、次のア～エから1つ選んで、記号で答えなさい。

ア 年齢 — 25歳      任期 — 6年      イ 年齢 — 30歳      任期 — 4年

ウ 年齢 — 30歳      任期 — 6年      エ 年齢 — 25歳      任期 — 4年



問7 下線部⑥について、次の文は選挙の日より30日以内に国会を開き内閣総理大臣を決める仕組みについて述べた文です。( a )・( b )に入る語句の組み合わせとして正しいものを、次のア～エから1つ選んで、記号で答えなさい。

『内閣総理大臣は( a )により、指名され( b )により任命される』

ア a—国民 b—国会議員 イ a—重臣 b—元老

ウ a—国会議員 b—天皇 エ a—天皇 b—国会議員

問8 下線部⑦について、日本国憲法の三大原則のうち、国民主権を規定している条文が第1条です。次に述べた憲法第1条の( a )にあてはまる語句を答えなさい。

『天皇は、日本国の( a )であり、日本国民統合の( a )であって、この地位は、主権の存する日本国民の総意に基づく』